

Picture Reasoning

Support Us & get more exam wise free study material, videos, pdfs, current affairs, job alerts, results join our complete exam wise social network from below links :-

TELEGRAM OFFICIAL CHANNEL	Telegram.me/ExamsCart
FACEBOOK OFFICIAL PAGE	FB.com/ExamsCartOfficial
TWITTER OFFICIAL HANDLE	Twitter.com/Exams_Cart
INSTAGRAM OFFICIAL PAGE	Instagram.com/Exams_Cart
YOUTUBE OFFICIAL CHANNEL	https://www.youtube.com/channel/UCYar18Ja2briD8tBOMk5Nsw?sub_confirmation=1

Govt Exams ? Crack with Us...

Please Subscribe, Join & Like Our Above Social Network.

**Free Current Affairs Daily, Monthly, Yearly Pdfs, GK
Tricks, General Studies Free PDFs**

[Click Here To Download](#)



Govt Exams ? Crack with Us...



Click Here To Free Download NOW

**CURRENT
AFFAIRS**

GK GS

#Daily Updated



**Go to Google Play
Store Type
"ExamsCart"
Download Our App**

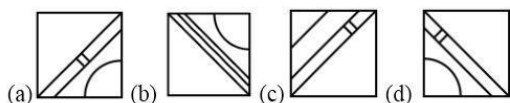
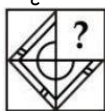
Make In India App 2020
Support Us!!
Vocal For Local

- Daily Current Affairs
- GK Tricks for Exams
- Monthly Current Affairs
- Current Affairs Quiz
- Gk Capsules
- Short Tricks

- Economy
- History
- Geography
- Polity
- General Awareness
- Art & Culture

the question figure?

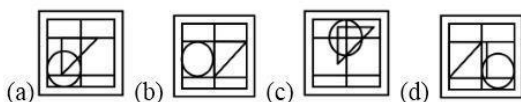
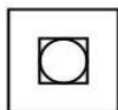
कौन सी उत्तर आकृति प्रश्न आकृति के प्रतिरूप को पूरा करेगी?



SSCCGL10AUG-S1 : 21

(8) From the given answer figure, select the one in which the question figure is hidden / embedded.

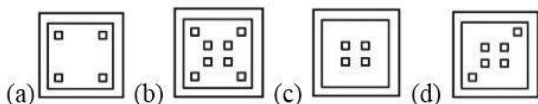

दी गई उत्तर आकृतियों में से उस उत्तर आकृति को चुनिए जिस में प्रश्न आकृति निहित है।



SSCCGL10AUG-S1 : 22

(9) A piece of paper is folded and punched as shown below in the question figure. From the given answer figure, indicate how it will appear when opened?

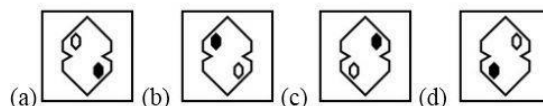
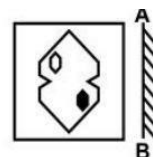
नीचे के प्रश्न आकृतियों में दिखाए अनुसार कागज को मोड़कर छेदने तथा खोलने के बाद वह किस उत्तर आकृति जैसा दिखाई देगा?



SSCCGL10AUG-S1 : 23

(10) IF a mirror is placed on the line AB, then which of the answer figure is the right image of the given figure?

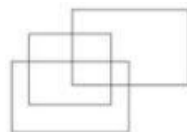
यदि एक दर्पण को AB रेखा पर रखा जाए, तो दी गई उत्तर आकृतियों में से कौन सी आकृति प्रश्न आकृति की सही प्रतिबिम्ब होगी?



SSCCGL08AUG-S2 : 24

(11) How many rectangles are there in the given figure?

दी गई आकृति में कितने आयत हैं?

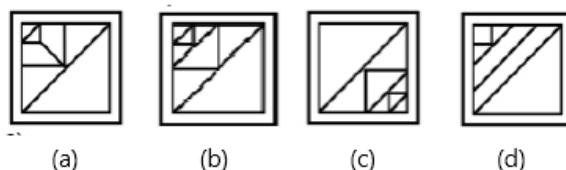


SSCCGL08AUG-S2 : 17

(a) 9 (b) 10 (c) 11 (d) 12

(12) Which answer figure will complete the pattern in the question figure?

कौन सी उत्तर आकृति के प्रतिरूप को पूरा करेगी?



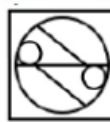
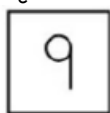
SSCCGL08AUG-S2 : 21

(a) A (b) B (c) C (d) D

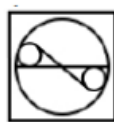
(13) From the given answer figure, select the one in which the question figure is hidden/embedded.

दी गई उत्तर आकृतियों में से उस आकृति को चुनिए जिस में प्रश्न

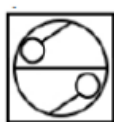
आकृति निहित हैं?



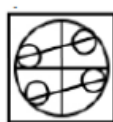
(a)



(b)



(c)

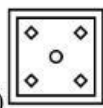
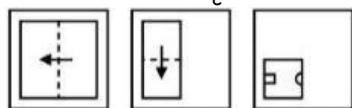


(d)

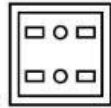
SSCCGL08AUG-S2 : 22

(14) A piece of paper is folded and punched as shown below in the question figures. From the given answer figure, indicate how it will appear when opened?

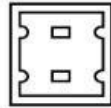
नीचे के प्रश्न आकृतियों में दिखाई अनुसार कागज को मोरकर छेदने तथा खोलने के बाद वह किस आकृति जैसा दिखाई देगा?



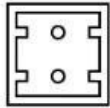
(a)



(b)



(c)



(d)

SSCCGL08AUG-S2 : 23

(15) If a mirror is placed on the line AB, then which of the answer figure is the right image of the given figure?

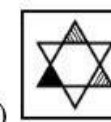
यदि एक दर्पण को AB रेखा पर रखा जाए, तो दी गई उत्तर आकृतियों में से कौन सी आकृति प्रश्न आकृति की सही प्रतिबिम्ब होगी?



(a)



(b)



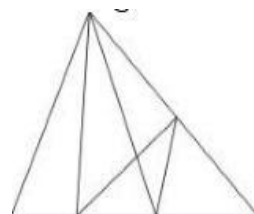
(c)



(d)

SSCCGL08AUG-S2 : 24

(16) How many triangles are there in the given figure?
दी गई आकृति में कितने त्रिभुज हैं?



SSCCGL11AUG-S3 : 17

(a) 13

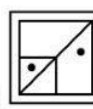
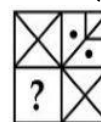
(b) 14

(c) 15

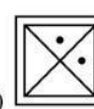
(d) 16

(17) Which answer figure will complete the pattern in the question figure?

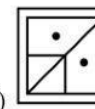
कौन सी उत्तर आकृति के प्रतिरूप को पूरा करेगी? -



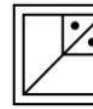
(a)



(b)



(c)




(d)

SSCCGL11AUG-S3 : 21

(18) From the given answer figures, select the one in which the question figure is hidden/embedded.

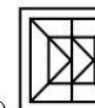
दी गई उत्तर आकृतियों में से उस उत्तर आकृति को चुनिए जिस में प्रश्न आकृति निहित है।



(a)



(b)



(c)

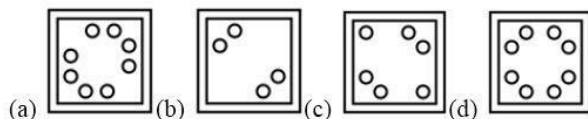
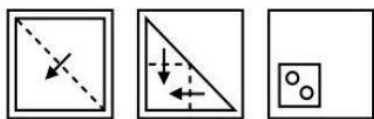


(d)

SSCCGL11AUG-S3 : 22

(19) A piece of paper is folded and punched as shown below in the question figure. From the given answer figures, indicate how it will appear when opened?

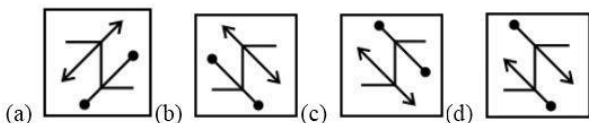
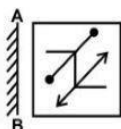
नीचे के प्रश्न आकृतियों में दिखाए अनुसार कागज को मोरकर छेदने तथा खोलने के बाद वह किस उत्तर आकृति ? दिखाई देगा?



SSCGCL11AUG-S3 : 23

(20) If a mirror is placed on the line AB, then which of the answer figure is the right image of the given figure?

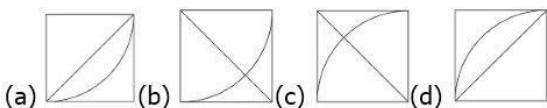
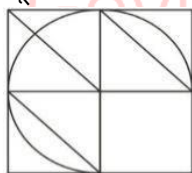
यदि एक दर्पण को AB रेखा पर रखा जाए, तो दी गई उत्तर आकृतियों में से कौन सी आकृति प्रश्न आकृति की सही प्रतिबिम्ब होगी?



SSCGCL11AUG-S3 : 24

(21) Which answer figure will complete the pattern in the question figure?

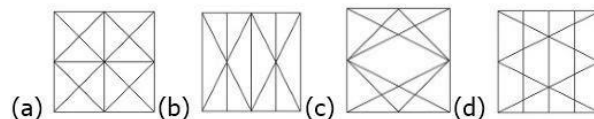
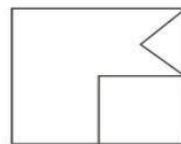
निम्नलिखित में से कौन-सी उत्तर आकृति प्रश्न आकृति के प्रतिरूप को पूरा करेगी?



SSCGCL21AUG-S3 : 21

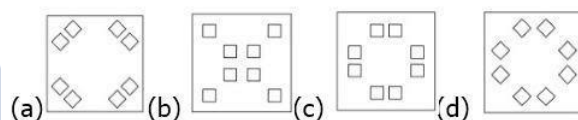
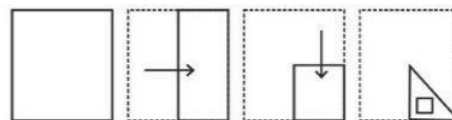
(22) From the given answer figure, select the one in which the question figure is hidden/ embedded.
दी गई उत्तर आकृतियों में से उस उत्तर आकृति को चुनिए जिस में

प्रश्न आकृति निहित है।



SSCGCL21AUG-S3 : 22

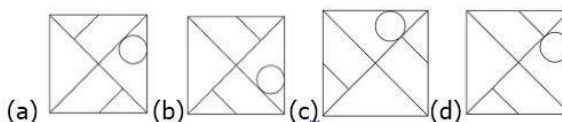
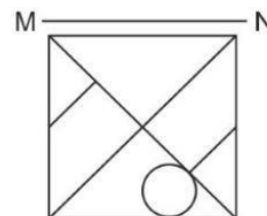
(23) A piece of paper is folded and punched as shown below in the question figure. From the given answer figures, indicate how it will appear when opened?
नीचे के प्रश्न आकृतियों में दिखाए अनुसार कागज को मोरकर छेदने तथा खोलने के बाद वह किस उत्तर आकृति जैसा दिखाई देगा?



SSCGCL21AUG-S3 : 23

(24) If a mirror is placed on the line MN, then which of the answer figure is the right image of the given figure?

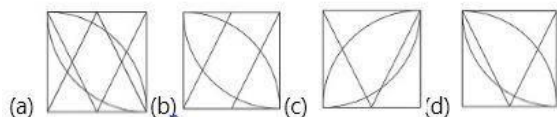
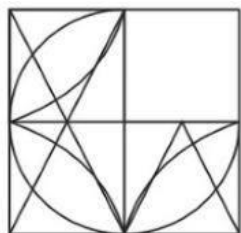
यदि एक दर्पण को MN रेखा पर रखा जाए, तो दी गई उत्तर आकृतियों में से कौन सी आकृति प्रश्न आकृति की सही प्रतिबिम्ब होगी?



SSCGCL21AUG-S3 : 24

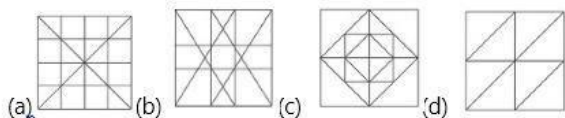
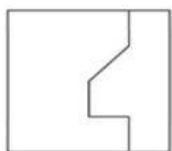
(25) which answer figure will complete the pattern in the question figure?

निम्नलिखित में से कौन सी उत्तर आकृति प्रश्न आकृति के प्रारूप को पूरा करेगी?



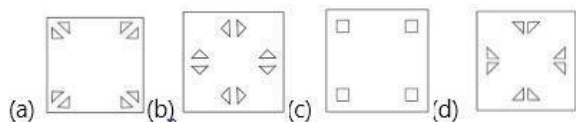
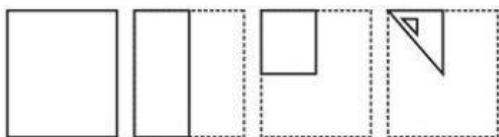
SSCGL22AUG-S2 : 21

(26) From the given answer figure, select the one in which the question figure is hidden/embedded.
दी गई उत्तर आकृतियों में से उस आकृति को चुनिए जिसमें प्रश्न आकृति निहित है।



SSCGL22AUG-S2 : 22

(27) A piece of paper is folded and punched as shown below in the question figures. From the given answer figure, indicate how it will appear when opened.
प्रश्न आकृतियों में दिखाए अनुसार कागज को मोड़कर उसमें छेद करने तथा खोलने के बाद वह किस उत्तर आकृति जैसा दिखाई देगा?

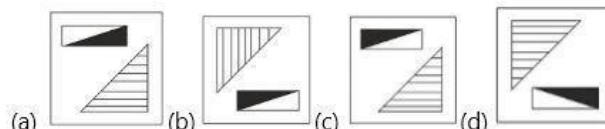


SSCGL22AUG-S2 : 23

(28) If a mirror is placed on the line MN, then which of the answer figure is the right image of the given

figure?

यदि एक दर्पण को MN रेखा पर रखा जाए, तो दी गई उत्तर आकृतियों में से कौन सी आकृति प्रश्न आकृति की सही प्रतिबिम्ब होगी?

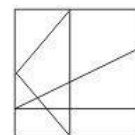


SSCGL22AUG-S2 : 24

(29)

How many triangles are there in the given figure?

दी गई आकृति में कितने त्रिभुज हैं?

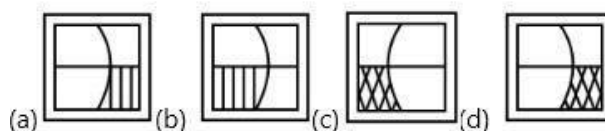
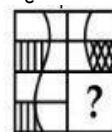


SSCGL05AUG-S3 : 17

(a) 11 (b) 9 (c) 10 (d) 12

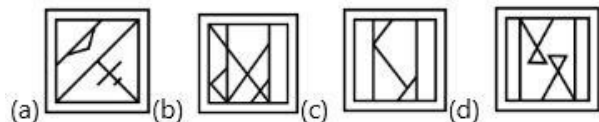
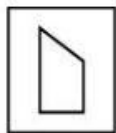
(30) Which answer figure will complete the pattern in the question figure?

कौन-सी उत्तर आकृति प्रश्न आकृति की प्रतिरूप को पूरा करेगी?



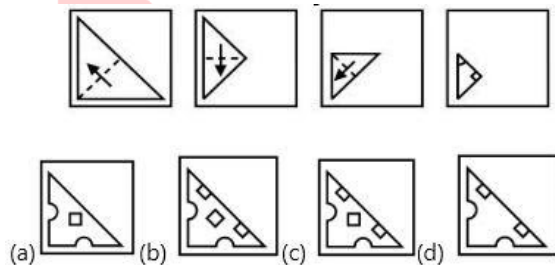
SSCGL05AUG-S3 : 21

(31) From the given answer figure, select the one in which the question figure is hidden/ embedded.
दी गई उत्तर आकृतियों में से उस उत्तर आकृति को चुनिए जिसमें प्रश्न आकृति निहित है।

**SSCCGL05AUG-S3 : 22**

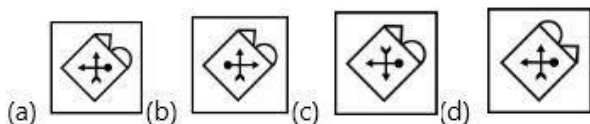
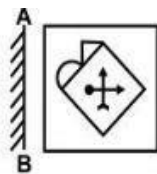
(32) A piece of paper is folded and punched as shown below in the question figure. From the given answer figures, indicate how it will appear when opened?

नीचे के प्रश्न आकृतियों में दिखाए अनुसार कागज को मोरकर छेदने तथा खोलने के बाद वह किस उत्तर आकृति जैसा दिखाई देगा?

**SSCCGL05AUG-S3 : 23**

(33) If a mirror is placed on the line AB, then which of the answer figure is the right image of the given figure?

यदि एक दर्पण को AB रेखा पर रखा जाए, तो दी गई उत्तर आकृतियों में से कौन सी आकृति प्रश्न आकृति की सही प्रतिबिम्ब होगी?

**SSCCGL05AUG-S3 : 24**

(34) how many triangle are there in the figure?

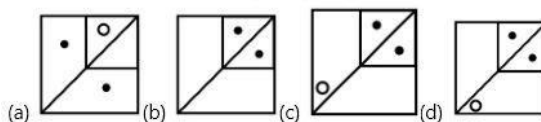
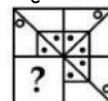
नीचे दी गई आकृति में कितने त्रिभुज हैं?

**SSCCGL10AUG-S2 : 17**

- (a) 4 (b) 5 (c) 6
(d) 7

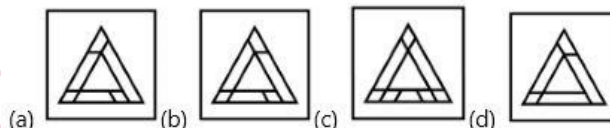
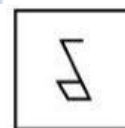
(35) which answer figure will complete the pattern in the question figure?

कौन सी उत्तर आकृति प्रश्न आकृति के प्रारूप को पूरा करेगी?

**SSCCGL10AUG-S2 : 21**

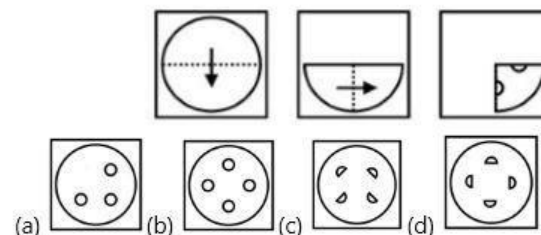
(36) From the given answer figure, select the one in which the question figure is hidden/embedded.

दी गई आकृतियों में से उस उत्तर आकृति को चुनिए जिसमें प्रश्न आकृति निहित है।

**SSCCGL10AUG-S2 : 22**

(37) A piece of paper is folded and punched as shown below in the question figure. From the given answer figure, indicate how it will appear when opened.

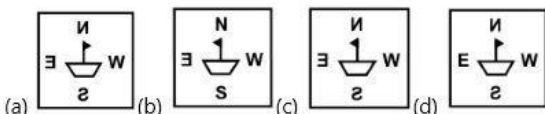
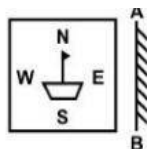
नीचे के प्रश्न आकृतियों में दिखाए अनुसार कागज को मोरकर छेदने तथा खोलने के बाद वह किस उत्तर आकृति जैसा दिखाई देगा?



SSCCGL10AUG-S2 : 23

(38) If a mirror is placed on the line AB, then which of the answer figure is the right image of the given figure?

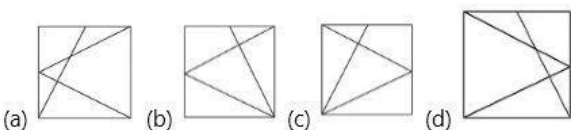
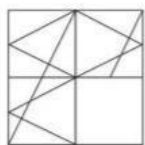
यदि एक दर्पण को AB रेखा पर रखा जाए, तो दी गई उत्तर आकृतियों में से कौन सी आकृति प्रश्न आकृति की सही प्रतिबिम्ब होगा ?



SSCCGL10AUG-S2 : 24

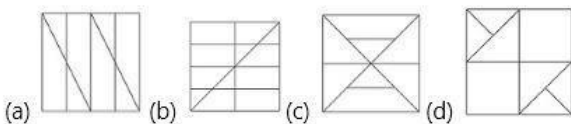
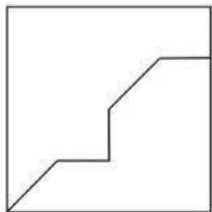
(39) which answer figure will complete the pattern in the question figure?

कौन सी उत्तर आकृति प्रश्न आकृति के प्रारूप को पूरा करेगी?



SSCCGL17AUG-S1 : 21

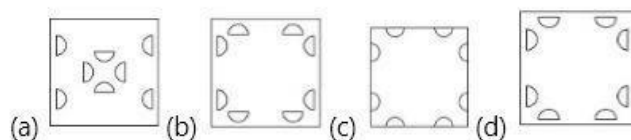
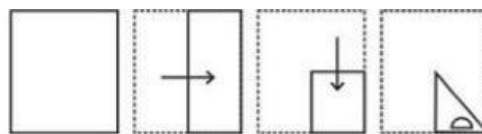
(40) From the given answer figure, select the one in which the question figure is hidden/embedded.
दी गई आकृतियों में से उस उत्तर आकृति को चुनिए जिस में प्रश्न आकृति निहित है।



SSCCGL17AUG-S1 : 22

(41) A piece of paper is folded and punched as shown below in the question figure. From the given answer figure, indicate how it will appear when opened.

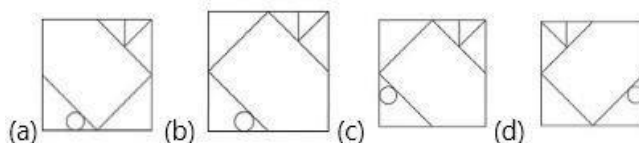
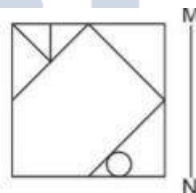
नीचे के प्रश्न आकृतियों में दिखाए अनुसार कागज को मोड़कर छेड़ने तथा खोलने के बाद वह किस उत्तर आकृति जैसा दिखाई देगा?



SSCCGL17AUG-S1 : 23

(42) If a mirror is placed on the line AB, then which of the answer figure is the right image of the given figure?

यदि एक दर्पण को AB रेखा पर रखा जाए, तो दी गई उत्तर आकृतियों में से कौन सी आकृति प्रश्न आकृति की सही प्रतिबिम्ब होगा ?



SSCCGL17AUG-S1 : 24

(43) How many triangles are there in the given figure?
नीचे दी गई आकृति में कितने त्रिभुज हैं?

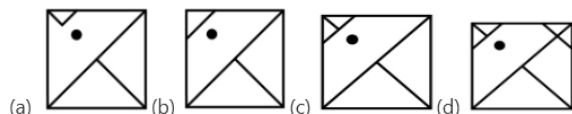



SSCCGL09AUG-S1 : 17

(a) 14 (b) 15 (c) 17 (d) 18

(44) which answer figure will complete the pattern in the question figure?

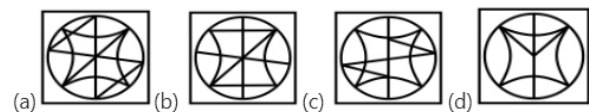
कौन सी उत्तर आकृति प्रश्न आकृति के प्रतिरूप को पूरा करेगी?



SSCCGL09AUG-S1 : 21

(45) From the given answer figures, select the one in which the question figure is hidden/mbded.

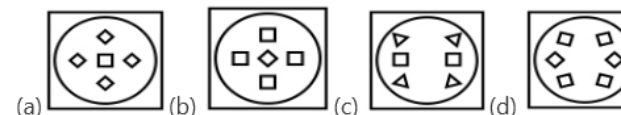
दी गई उत्तर आकृतियों में से उस उत्तर आकृति को चुनिए जिसे में प्रश्न आकृति निहित है।



SSCCGL09AUG-S1 : 22

(46) A piece of paper is folded and punched as shown below in the question figures. From the given answer figures, indicate how it will appear when opened?

नीचे के प्रश्न आकृतियों में दिखाए अनुसार कागज को मोड़कर छेदने तथा खोलने के बाद वह किस उत्तर आकृति जैसी दिखाई देगा?

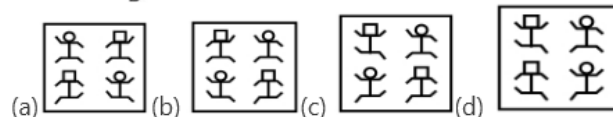
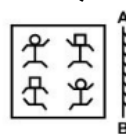


SSCCGL09AUG-S1 : 23

(47) If a mirror is placed on the line AB, then which of the answer figure is the right image of the given figure?

यदि एक दर्पण को AB रेखा पर रखा जाए, तो दी गई उत्तर आकृतियों में से कौन सी आकृति प्रश्न आकृति की सही

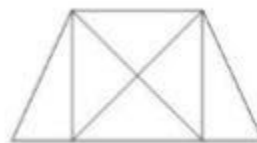
प्रतिबिम्ब होगी?



SSCCGL09AUG-S1 : 24

(48) How many triangles are there in the given figure?

दी गई आकृति में कितने त्रिभुज हैं?

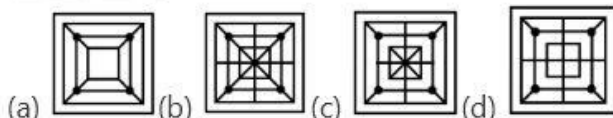
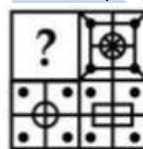


SSCCGL09AUG-S2 : 17

(a) 8 (b) 10 (c) 12 (d) 14

(49) Which of the following figure will complete the pattern in the question figure?

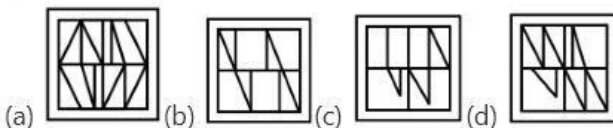
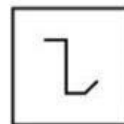
निम्नलिखित में से कौन सी उत्तर आकृति प्रश्न आकृति के प्रतिरूप को पूरा करेगी ?



SSCCGL09AUG-S2 : 21

(50) From the given answer figures, select the one in which the question figure is hidden/embedded

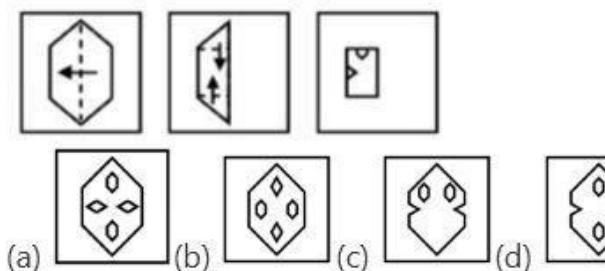
दी गई उत्तर आकृतियों में से उस उत्तर आकृति को चुनिए जिस में प्रश्न आकृति निहित है



SSCCGL09AUG-S2 : 22

(51) A piece of paper is folded and punched as shown

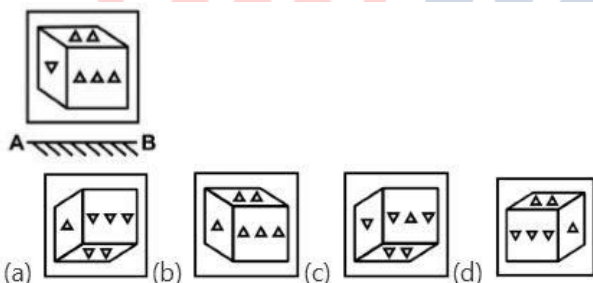
below in the question figures. From the given answer figures, indicate how it will appear when opened?
नीचे के प्रश्न आकृतियों में दिखाए अनुसार कागज को मोड़कर छेदने तथा खोलने के बाद वह किस उत्तर आकृति जैसा दिखाई देगा ?



SSCCGL09AUG-S2 : 23

(52) If a mirror is placed on the line AB, then which of the answer figures is the right image of the given figure?

यदि एक दर्पण को AB रेखा पर रखा जाए, तो दी गई उत्तर आकृतियों में से कौन सी आकृति प्रश्न आकृति की सही प्रतिबिम्ब होगी ?



SSCCGL09AUG-S2 : 24

(53) How many triangles are there in the given figure?
नीचे दी गई आकृति में कितने त्रिभुज हैं?

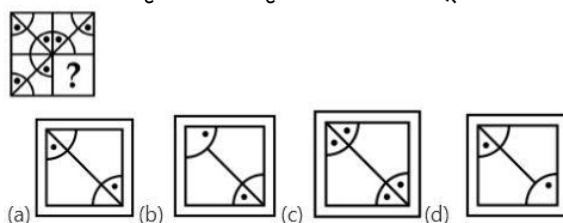


SSCCGL11AUG-S1 : 17

- (a) 16 (b) 20 (c) 22 (d) 24

(54) which answer figure will complete the pattern in the question figure?

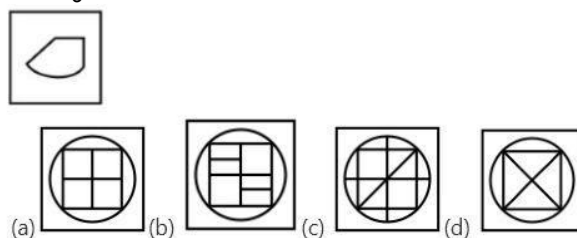
कौन सी उत्तर आकृति प्रश्न आकृति के प्रतिरूप को पूरा करेगी?



SSCCGL11AUG-S1 : 21

(55) From the given answer figures, select the one in which the question figure is hidden/mbded.

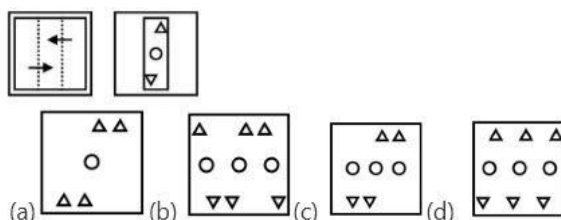
दी गई उत्तर आकृतियों में से उस उत्तर आकृति को चुनिए जिसे में प्रश्न आकृति निहित है।



SSCCGL11AUG-S1 : 22

(56) A piece of paper is folded and punched as shown below in the question figures. From the given answer figures, indicate how it will appear when opened?

नीचे के प्रश्न आकृतियों में दिखाए अनुसार कागज को मोड़कर छेदने तथा खोलने के बाद वह किस उत्तर आकृति जैसी दिखाई देगा?

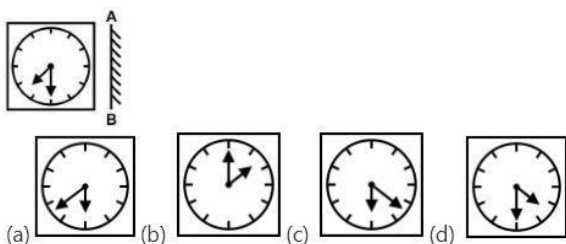


SSCCGL11AUG-S1 : 23

(57) If a mirror is placed on the line AB, then which of the answer figure is the right image of the given figure?

यदि एक दर्पण को AB रेखा पर रखा जाए, तो दी गई उत्तर आकृतियों में से कौन सी आकृति प्रश्न आकृति की सही

प्रतिबिम्ब होगी?



SSCCGL11AUG-S1 : 24

(58) How many tringles are there in the given figure?
नीचे दी गई आकृति में कितने त्रिभुज हैं?

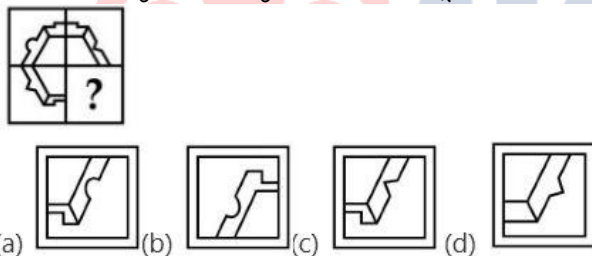


SSCCGL12AUG-S1 : 17

- (a) 12 (b) 13 (c) 15
(d) 18

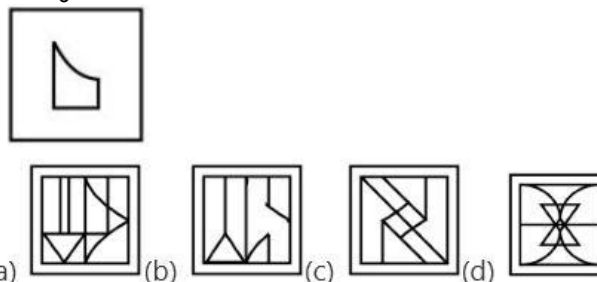
(59) which answer figure will complete the pattern in the question figure?

कौन सी उत्तर आकृति प्रश्न आकृति के प्रतिरूप को पूरा करेगी?



SSCCGL12AUG-S1 : 21

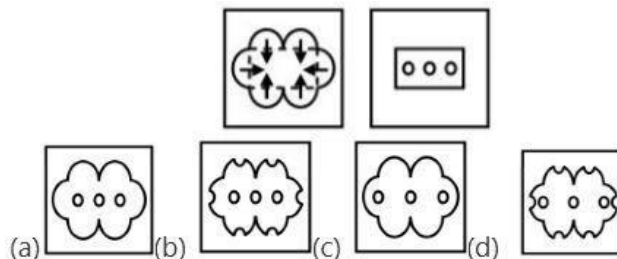
(60) From the given answer figures, select the one in which the question figure is hidden/mbded.
दी गई उत्तर आकृतियों में से उस उत्तर आकृति को चुनिए जिसे में प्रश्न आकृति निहित है।



SSCCGL12AUG-S1 : 22

(61) A piece of paper is folded and punched as shown

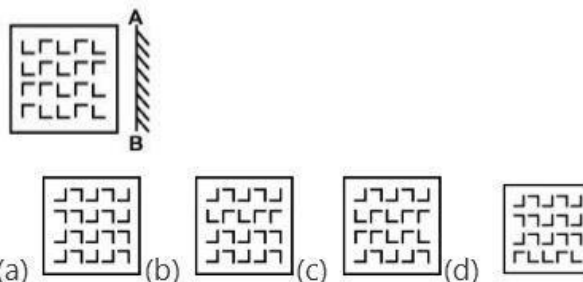
below in the question figures. From the given answer figures, indicate how it will appear when opened?
नीचे के प्रश्न आकृतियों में दिखाए अनुसार कागज को मोड़कर छेदने तथा खोलने के बाद वह किस उत्तर आकृति जैसी दिखाई देगा?



SSCCGL12AUG-S1 : 23

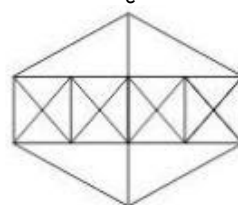
(62) If a mirror is placed on the line AB, then which of the answer figure is the right image of the given figure?

यदि एक दर्पण को AB रेखा पर रखा जाए, तो दी गई उत्तर आकृतियों में से कौन सी आकृति प्रश्न आकृति की सही प्रतिबिम्ब होगी?



SSCCGL12AUG-S1 : 24

(63) How many tringles are there in the given figure?
नीचे दी गई आकृति में कितने त्रिभुज हैं?

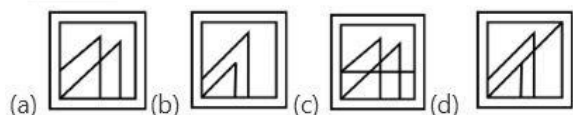


SSCCGL12AUG-S2 : 17

- (a) 38 (b) 44 (c) 46
(d) 54

(64) which answer figure will complete the pattern in the question figure?

कौन सी उत्तर आकृति प्रश्न आकृति के प्रतिरूप को पूरा करेगी?

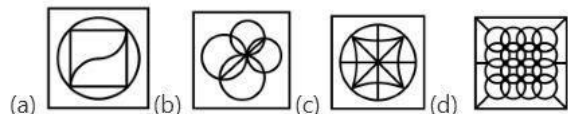


SSCCGL12AUG-S2 : 21

- (a) A (b) B (c) C (d) D

(65) From the given answer figures, select the one in which the question figure is hidden/mbded.

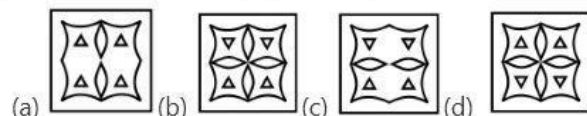
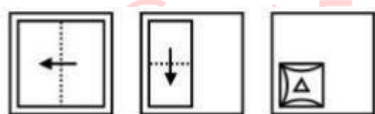
दी गई उत्तर आकृतियों में से उस उत्तर आकृति को चुनिए जिसे में प्रश्न आकृति निहित है।



SSCCGL12AUG-S2 : 22

(66) piece of paper is folded and punched as shown below in the question figures. From the given answer figures, indicate how it will appear when opened?

नीचे के प्रश्न आकृतियों में दिखाए अनुसार कागज को मोड़कर छेदेने तथा खोलने के बाद वह किस उत्तर आकृति जैसी दिखाई देगा?

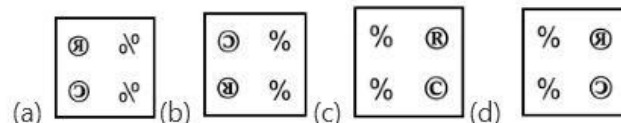
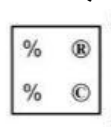


SSCCGL12AUG-S2 : 23

(67) If a mirror is placed on the line AB, then which of the answer figure is the right image of the given figure?

यदि एक दर्पण को AB रेखा पर रखा जाए, तो दी गई उत्तर आकृतियों में से कौन सी आकृति प्रश्न आकृति की सही

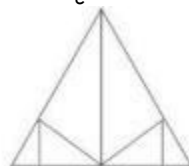
प्रतिबिम्ब होगी?



SSCCGL12AUG-S2 : 24

(68) How many triangles are there in the given figure?

दी गई आकृति में कितने त्रिभुज हैं ?

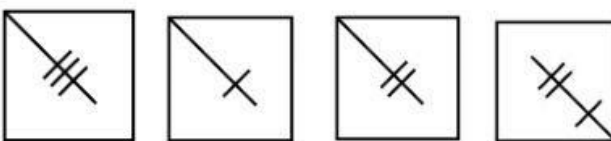
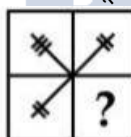


SSCCGL10AUG-S3 : 17

- (a) 10 (b) 11 (c) 12 (d) 13

(69) Which of the following figure will complete the pattern in the question figure?

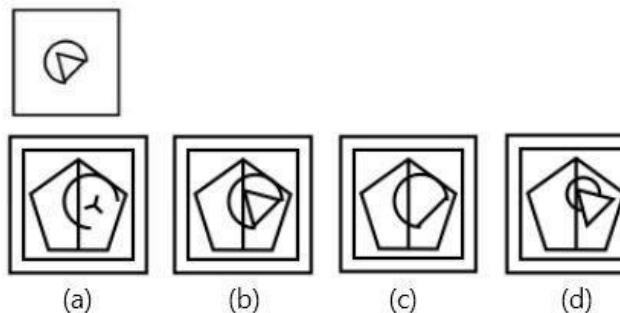
निम्नलिखित में से कौन सी उत्तर आकृति प्रश्न आकृति के प्रतिरूप को पूरा करेगी ?



SSCCGL10AUG-S3 : 21

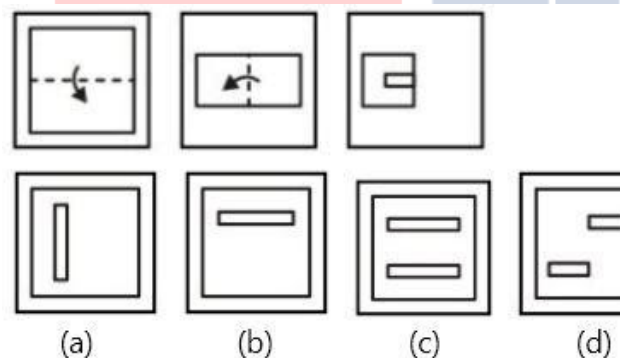
(70) From the given answer figure select the one which in which the question figure is hidden / embedded.

दी गई उत्तर आकृतियों में से उस आकृति को चुनिए जिसमें प्रश्न आकृति निहित है।

**SSCCGL10AUG-S3 : 22**

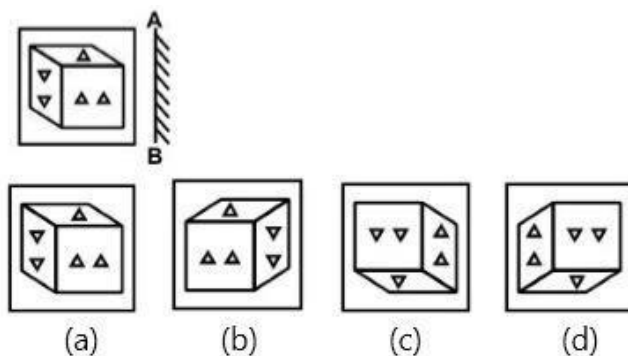
(71) A piece of paper is folded and punched as shown below in the question figure. From the given answer figures, indicate how it will appear when opened?

नीचे के प्रश्न आकृतियों में दिखाए अनुसार कागज को मोड़कर उसमें छेद करने तथा खोलने के बाद वह किस उत्तर आकृति जैसा दिखाई देगा?

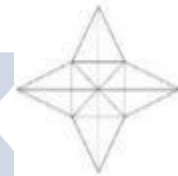
**SSCCGL10AUG-S3 : 23**

(72) If a mirror is placed on the line AB, then which of the answer figures is the right image of the given figure?

यदि एक दर्पण को AB रेखा पर रखा जाए, तो दी गई उत्तर आकृतियों में से कौन सी आकृति प्रश्न आकृति की सही प्रतिबिम्ब होगी?

**SSCCGL10AUG-S3 : 24**

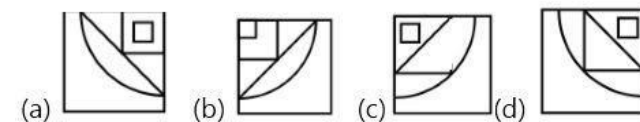
(73) How many people are there in the given figure?
दी गई आकृति में कितने त्रिभुज हैं

**SSCCGL12AUG-S3 : 17**

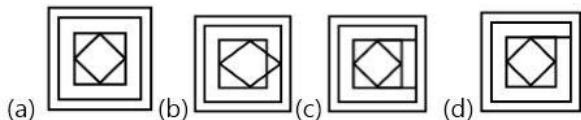
(a) 28 (b) 36 (c) 40
(d) 48

(74) Which answer figure will complete the pattern in the question figure?

कौन सी उत्तर आकृति के प्रतिरूप को पूरा करेगी?

**SSCCGL12AUG-S3 : 21**

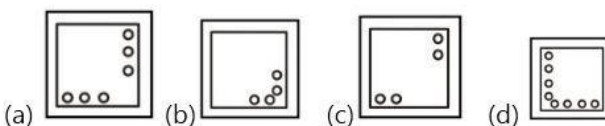
(75) From the given answer figures, select the one in which the question figure is hidden/embedded.
दी गई उत्तर आकृतियों में से उस उत्तर आकृति को चुनिए जिस में प्रश्न आकृति निहित है।



SSCGL12AUG-S3 : 22

(76) A piece of paper is folded and punched as shown below in the question figure. From the given answer figures, indicate how it will appear when opened?

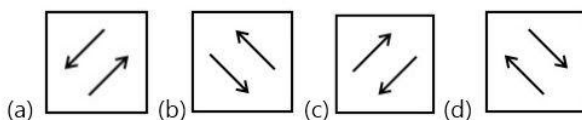
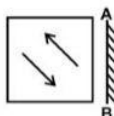
नीचे के प्रश्न आकृतियों में दिखाए अनुसार कागज को मोड़कर छेदने तथा खोलने के बाद वह किस उत्तर आकृति ? दिखाई देगा?



SSCGL12AUG-S3 : 23

(77) If a mirror is placed on the line AB, then which of the answer figure is the right image of the given figure?

यदि एक दर्पण को AB रेखा पर रखा जाए, तो दी गई उत्तर आकृतियों में से कौन सी आकृति प्रश्न आकृति की सही प्रतिबिम्ब होगी?



SSCGL12AUG-S3 : 24

(78) How many triangles are there in the given figure?
नीचे दी गई आकृति में कितने त्रिभुज हैं?

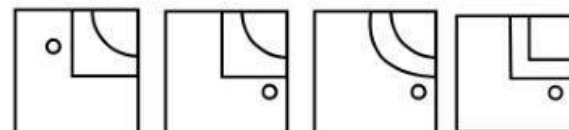
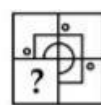


SSCGL11AUG-S2 : 17

(a) 11 (b) 12 (c) 13
(d) 15

(79) Which answer figure will complete the pattern in the question figure?

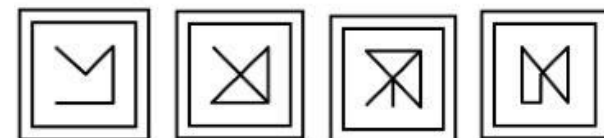

कौन सी उत्तर आकृति प्रश्न आकृति के प्रतिरूप को पूरा करेगी ?



SSCGL11AUG-S2 : 21

(80) From the given answer figure select the one which in which the question figure is hidden / embedded.

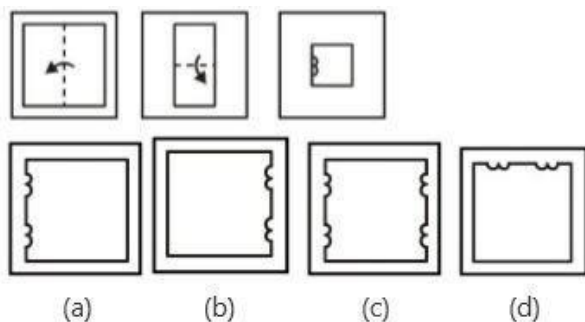
दी गई उत्तर आकृतियों में से उस आकृति को चुनिए जिसमें प्रश्न आकृति निहित है।



SSCGL11AUG-S2 : 22

(81) A piece of paper is folded and punched as shown below in the question figure. From the given answer figures, indicate how it will appear when opened?

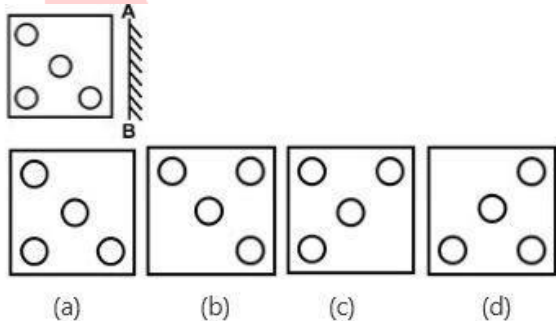
नीचे के प्रश्न आकृतियों में दिखाए अनुसार कागज को मोड़कर उसमें छेद करने तथा खोलने के बाद वह किस उत्तर आकृति जैसा दिखाई देगा?



SSCCGL11AUG-S2 : 23

(82) If a mirror is placed on the line AB, then which of the answer figure is the right image of the given figure?

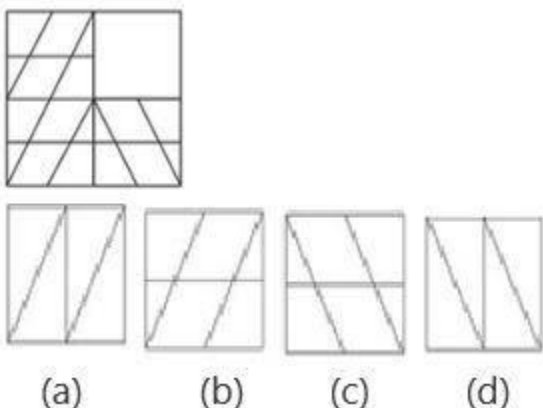
यदि एक दर्पण को AB रेखा पर रखा जाए, तो दी गई उत्तर आकृतियों में से कौन सी आकृति प्रश्न आकृति की सही प्रतिबिम्ब होगी?



SSCCGL11AUG-S2 : 24

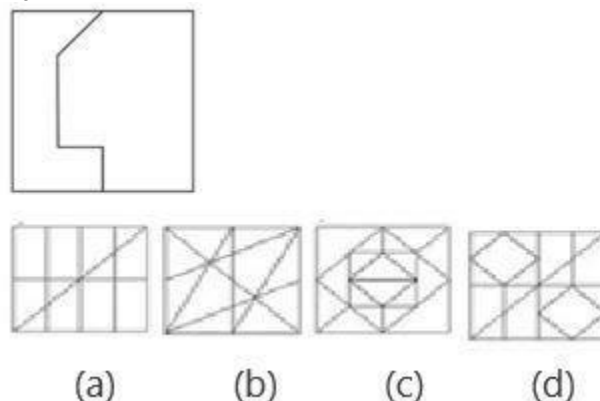
(83) Which answer figure will complete the pattern in the question figure?

निम्नलिखित में से कौन-सी उत्तर आकृति प्रश्न आकृति के प्रतिरूप को पूरा करेगी ?



SSCCGL17AUG-S2 : 21

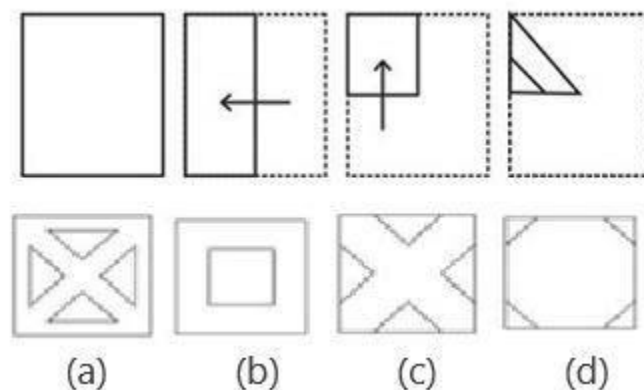
(84) From the given answer figures, select the one in which the question figure is hidden/embedded.
दी गई उत्तर आकृतियों में से उस आकृति को चुनिए जिसमें प्रश्न आकृति निहित है।



SSCCGL17AUG-S2 : 22

(85) A piece of paper is folded and punched as shown below in the question figure. From the given answer figures, indicate how it will appear when opened?

नीचे के प्रश्न आकृतियों में दिखाए अनुसार कागज को मोड़कर उसमें छेद करने तथा खोलने के बाद वह किस उत्तर आकृति जैसा दिखाई देगा?

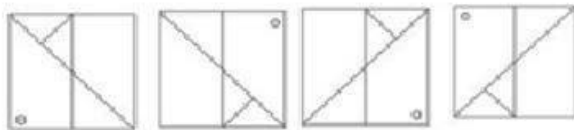
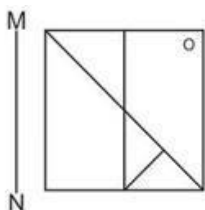


SSCCGL17AUG-S2 : 23

(86) If a mirror is placed on the line AB, then which of the answer figures is the right image of the given figure?

यदि एक दर्पण को AB रेखा पर रखा जाए, तो दी गई उत्तर आकृतियों में से कौन सी आकृति प्रश्न आकृति की सही

प्रतिबिम्ब होगी ?



(a) (b) (c) (d)

SSCCGL17AUG-S2 : 24

(87) How many triangles are there in the given figure?

दी गई आकृति में कितने त्रिभुज हैं ?

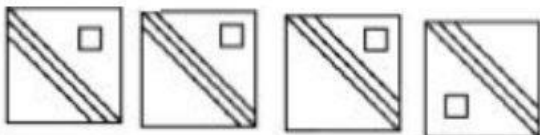
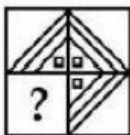


SSCCGL09AUG-S3 : 17

(a) 14 (b) 15 (c) 16 (d) 19

(88) Which answer figure will complete the pattern in the question figure?

कौन सी उत्तर आकृति के प्रतिरूप को पूरा करेगी ?

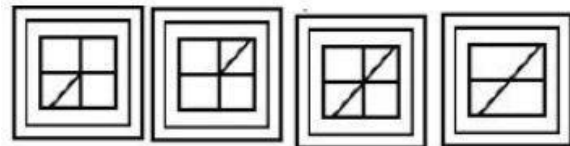
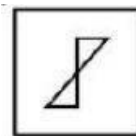


(a) (b) (c) (d)

SSCCGL09AUG-S3 : 21

(89) From the given answer figures, select the one in which the question figure is hidden/embedded.

दी गई उत्तर आकृतियों में से उस आकृति को चुनीए जिस में प्रश्न आकृति निहित है।

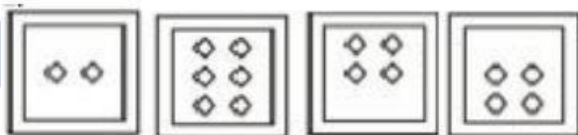
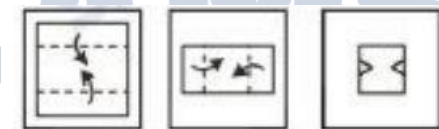


(a) (b) (c) (d)

SSCCGL09AUG-S3 : 22

(90) A piece of paper is folded and punched as shown below in the question figures. From the given answer figures, indicate how it will appear when opened?

निचे के प्रश्न आकृतियों में दिखाए अनुसार कागज को मोड़कर छेदने तथा खोलने के बाद वह किस उत्तर आकृति जैसा दिखाई देगा ?

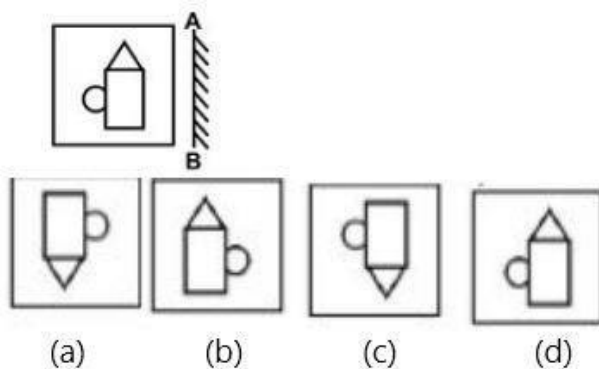


(a) (b) (c) (d)

SSCCGL09AUG-S3 : 23

(91) If a mirror is placed on the line AB, then which of the answer figures is the right image of the given figure?

यदि एक दर्पण को AB रेखा पर रखा जाए, तो दी गई उत्तर आकृतियों में से कौन सी आकृति प्रश्न आकृति की सही प्रतिबिम्ब होगी ?



SSCCGL09AUG-S3 : 24

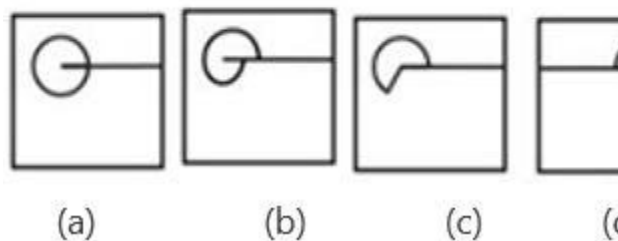
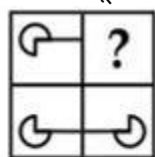
(92) How many triangles are there in the given figure?
दी गई आकृति में कितने त्रिभुज हैं ?



SSCCGL16AUG-S3 : 17

(a) 8 (b) 9 (c) 10
(d) 12

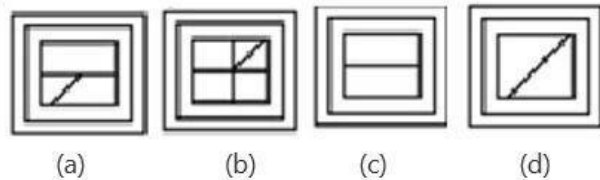
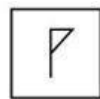
(93) Which of the following figure will complete the pattern in the question figure?
निम्नलिखित में से कौन सी उत्तर आकृति प्रश्न आकृति के प्रतिरूप को पूरा करेगी ?



SSCCGL16AUG-S3 : 21

(94) From the given answer figure select the one in which the question figure is hidden / embedded.

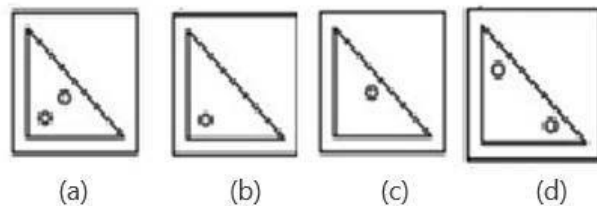
दी गई उत्तर आकृतियों में से उस आकृति को चुनिए जिसमें प्रश्न आकृति निहित है।



SSCCGL16AUG-S3 : 22

(95) A piece of paper is folded and punched as shown below in the question figure. From the given answer figures, indicate how it will appear when opened?

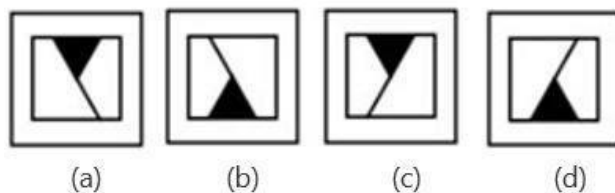
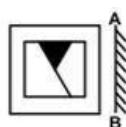
नीचे के प्रश्न आकृतियों में दिखाए अनुसार कागज को मोड़कर उसमें छेद करने तथा खोलने के बाद वह किस उत्तर आकृति जैसा दिखाई देगा?



SSCCGL16AUG-S3 : 23

(96) If a mirror is placed on the line AB, then which of the answer figures is the right image of the given figure?


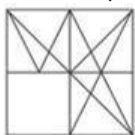
यदि एक दर्पण को AB रेखा पर रखा जाए, तो दी गई उत्तर आकृतियों में से कौन सी आकृति प्रश्न आकृति की सही प्रतिबिम्ब होगी ?



SSCCGL16AUG-S3 : 24

(97) Which of the following figure will complete the pattern in the question figure?

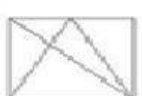
निम्नलिखित में से कौन सी उत्तर आकृति प्रश्न आकृति के प्रतिरूप को पूरा करेगी ?



(a)



(b)



(c)

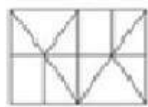


(d)

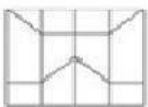
SSCCGL17AUG-S3 : 21

(98) From the given answer figure select the one in which the question figure is hidden / embedded.

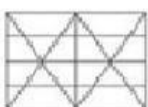
दी गई उत्तर आकृतियों में से उस आकृति को चुनिए जिसमें प्रश्न आकृति निहित है।



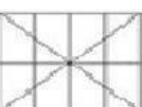
(a)



(b)



(c)

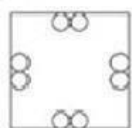
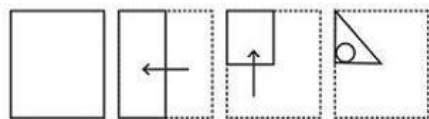


(d)

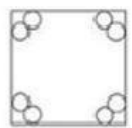
SSCCGL17AUG-S3 : 22

(99) A piece of paper is folded and punched as shown below in the question figure. From the given answer figures, indicate how it will appear when opened?

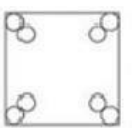
नीचे के प्रश्न आकृतियों में दिखाए अनुसार कागज को मोड़कर उसमें छेद करने तथा खोलने के बाद वह किस उत्तर आकृति जैसा दिखाई देगा?



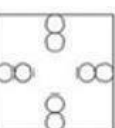
(a)



(b)



(c)



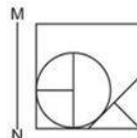
(d)

SSCCGL17AUG-S3 : 23

(100) If a mirror is placed on the line MN, then which

of the answer figures is the right image of the given figure?

यदि एक दर्पण को MN रेखा पर रखा जाए, तो दी गई उत्तर आकृतियों में से कौन सी आकृति प्रश्न आकृति की सही प्रतिबिम्ब होगी ?



(a)



(b)



(c)

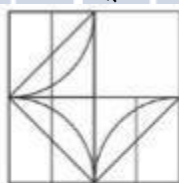


(d)

SSCCGL17AUG-S3 : 24

(101) Which of the following figure will complete the pattern in the question figure?

निम्नलिखित में से कौन सी उत्तर आकृति प्रश्न आकृति के प्रतिरूप को पूरा करेगी ?



(a)



(b)



(c)

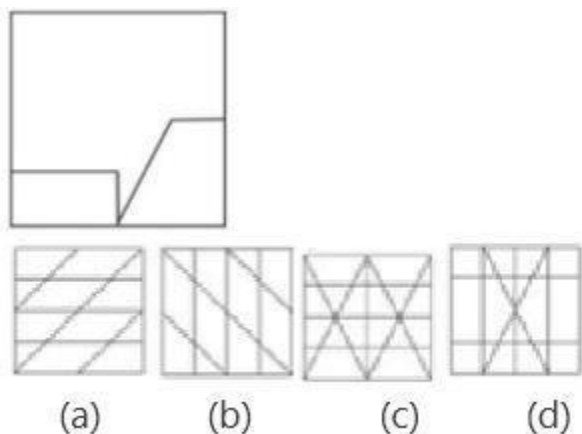


(d)

SSCCGL18AUG-S2 : 21

(102) From the given answer figure select the one in which the question figure is hidden / embedded.

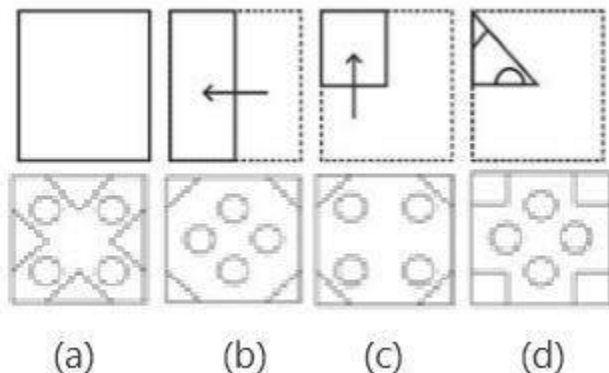
दी गई उत्तर आकृतियों में से उस आकृति को चुनिए जिसमें प्रश्न आकृति निहित है।



SSCCGL18AUG-S2 : 22

(103) A piece of paper is folded and punched as shown below in the question figure. From the given answer figures, indicate how it will appear when opened?

नीचे के प्रश्न आकृतियों में दिखाए अनुसार कागज को मोड़कर उसमें छेद करने तथा खोलने के बाद वह किस उत्तर आकृति जैसा दिखाई देगा?

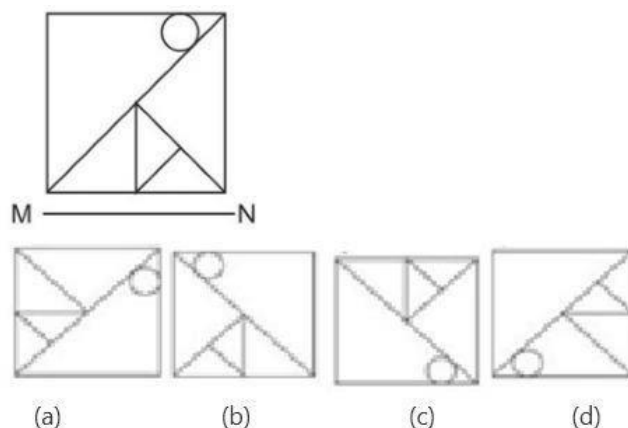


SSCCGL18AUG-S2 : 23

(104) If a mirror is placed on the line MN, then which of the answer figures is the right image of the given figure?

यदि एक दर्पण को MN रेखा पर रखा जाए, तो दी गई उत्तर आकृतियों में से कौन सी आकृति प्रश्न आकृति की सही

प्रतिबिम्ब होगी ?



SSCCGL18AUG-S2 : 24

(105) If $11\$25 = 18$, $12\$20 = 16$ then what is the value of $4\$50 = ?$

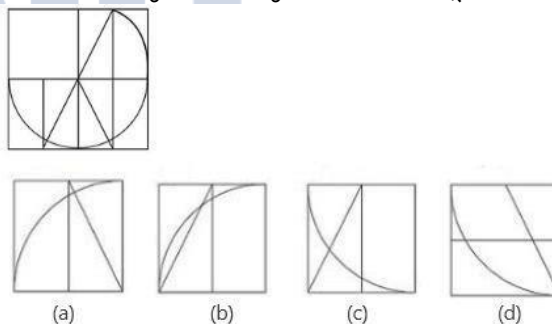
यदि $11\$25 = 18$, $12\$20 = 16$ तो $4\$50 = ?$ का मान ज्ञात कीजिये।

SSCCGL18AUG-S3 : 15

(a) 42 (b) 17 (c) 27 (d) 37

(106) which answer figure will complete the pattern in the question figure?

कौन सी उत्तर आकृति प्रश्न आकृति के प्रतिरूप को पूरा करेगी?

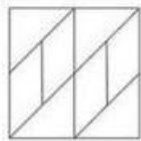
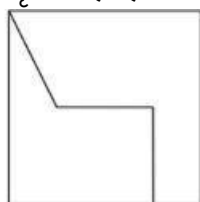


SSCCGL18AUG-S3 : 21

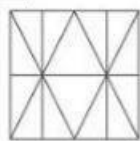
(107) From the given answer figure, select the one in which the question figure is hidden/embedded.

दी गई उत्तर आकृतियों में से उस आकृति को चुनिए जिस में प्रश्न

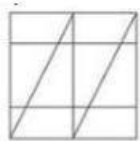
आकृति निहित हैं?




(a)



(b)



(c)

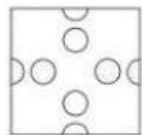
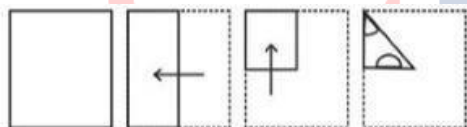


(d)


SSCCGL18AUG-S3 : 22

(108) A piece of paper is folded and punched as shown below in the question figures. From the given answer figure, indicate how it will appear when opened?

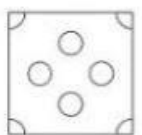
नीचे के प्रश्न आकृतियों में दिखाई अनुसार कागज को मोरकर छेद करने तथा खोलने के बाद वह किस आकृति जैसा दिखाई देगा?



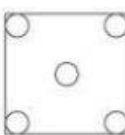
(a)



(b)



(c)

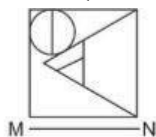


(d)

SSCCGL18AUG-S3 : 23

(109) If a mirror is placed on the line AB, then which of the answer figure is the right image of the given figure?

यदि एक दर्पण को MN रेखा पर रखा जाए, तो दी गई उत्तर आकृतियों में से कौन सी आकृति प्रश्न आकृति की सही प्रतिबिम्ब होगी?



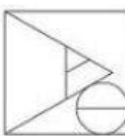
(a)



(b)



(c)

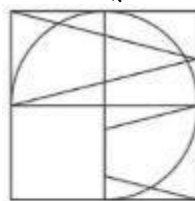


(d)

SSCCGL18AUG-S3 : 24

(110) Which of the following figure will complete the pattern in the question figure?

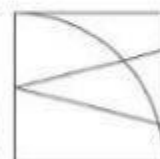
निम्नलिखित में से कौन सी उत्तर आकृति प्रश्न आकृति के प्रतिरूप को पूरा करेगी ?



(a)



(b)



(c)

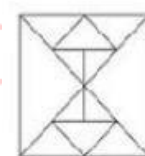
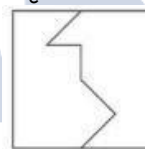


(d)

SSCCGL18AUG-S1 : 21

(111) From the given answer figure select the one in which the question figure is hidden / embedded.

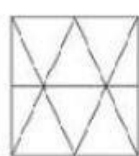
दी गई उत्तर आकृतियों में से उस आकृति को चुनिए जिसमें प्रश्न आकृति निहित है।



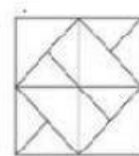
(a)



(b)



(c)



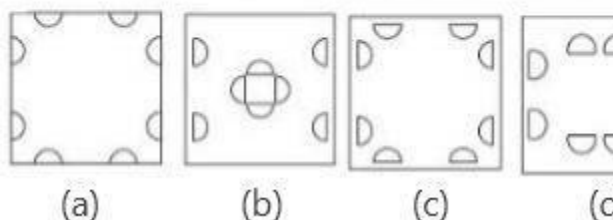
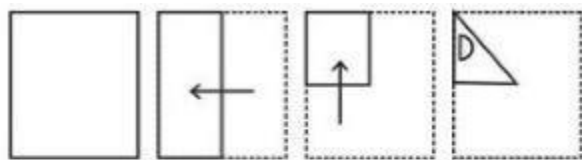
(d)

SSCCGL18AUG-S1 : 22

(112) A piece of paper is folded and punched as shown below in the question figure. From the given answer figures, indicate how it will appear when opened?

नीचे के प्रश्न आकृतियों में दिखाए अनुसार कागज को मोड़कर उसमें छेद करने तथा खोलने के बाद वह किस उत्तर आकृति जैसा

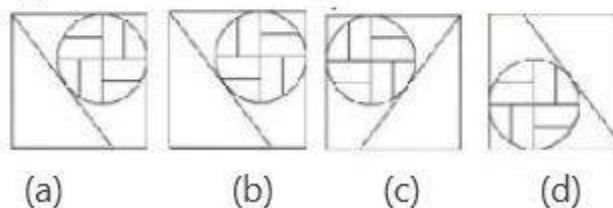
दिखाई देगा?



SSCCGL18AUG-S1 : 23

(113) If a mirror is placed on the line AB, then which of the answer figure is the right image of the given figure?

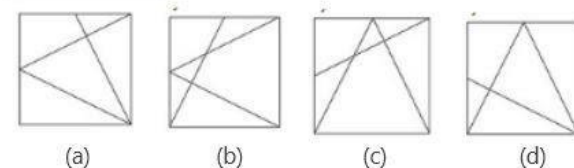
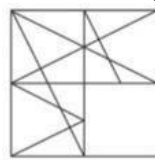
यदि एक दर्पण को MN रेखा पर रखा जाए, तो दी गई उत्तर आकृतियों में से कौन सी आकृति प्रश्न आकृति की सही प्रतिबिम्ब होगी?



SSCCGL18AUG-S1 : 24

(114) which answer figure will complete the pattern in the question figure?

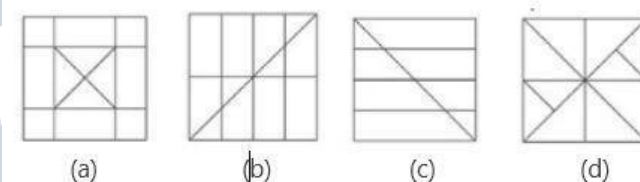
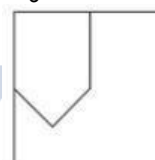
कौन सी उत्तर आकृति प्रश्न आकृति के प्रतिरूप को पूरा करेगी?



SSCCGL19AUG-S1 : 21

(115) From the given answer figure, select the one in which the question figure is hidden/embedded.

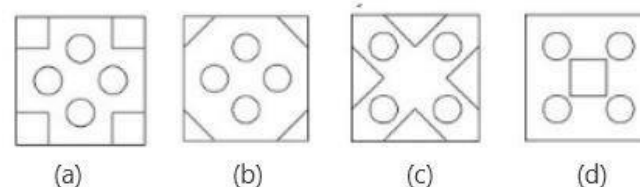
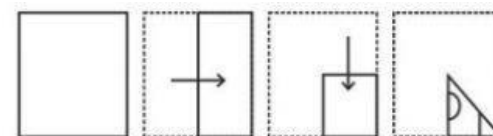
दी गई उत्तर आकृतियों में से उस आकृति को चुनिए जिस में प्रश्न आकृति निहित है?



SSCCGL19AUG-S1 : 22

(116) A piece of paper is folded and punched as shown below in the question figures. From the given answer figure, indicate how it will appear when opened?

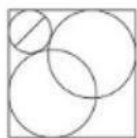
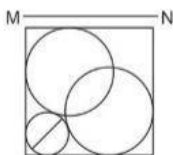
नीचे के प्रश्न आकृतियों में दिखाई अनुसार कागज को मोरकर छेद करने तथा खोलने के बाद वह किस आकृति जैसा दिखाई देगा?



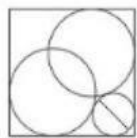
SSCCGL19AUG-S1 : 23

(117) If a mirror is placed on the line AB, then which of the answer figure is the right image of the given figure?

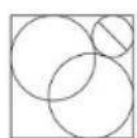
यदि एक दर्पण को MN रेखा पर रखा जाए, तो दी गई उत्तर आकृतियों में से कौन सी आकृति प्रश्न आकृति की सही प्रतिबिम्ब होगी?



(a)



(b)



(c)




(d)

SSCCGL19AUG-S1 : 24

(118) How many triangles are there in the given figure?

दी गई आकृति में कितने त्रिभुज हैं ?

**SSCCGL16AUG-S1 : 17**

(a) 20

(b) 23

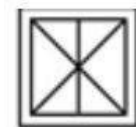
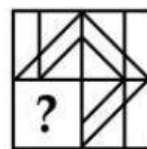
(c) 24

(d) 26

(119)

Which of the following figure will complete the pattern in the question figure?

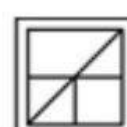
निम्नलिखित में से कौन सी उत्तर आकृति प्रश्न आकृति के प्रतिरूप को पूरा करेगी ?



(a)



(b)



(c)

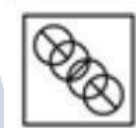
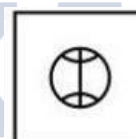


(d)

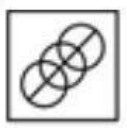
SSCCGL16AUG-S1 : 21

(120) From the given answer figure select the one which in which the question figure is hidden / embedded.


दी गई उत्तर आकृतियों में से उस आकृति को चुनिए जिसमें प्रश्न आकृति निहित है।



(a)



(b)



(c)

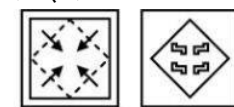


(d)

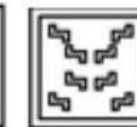
SSCCGL16AUG-S1 : 22

(121) A piece of paper is folded and punched as shown below in the question figure. From the given answer figures, indicate how it will appear when opened?

नीचे के प्रश्न आकृतियों में दिखाए अनुसार कागज को मोड़कर उसमें छेद करने तथा खोलने के बाद वह किस उत्तर आकृति जैसा दिखाई देगा?



(a)



(b)



(c)



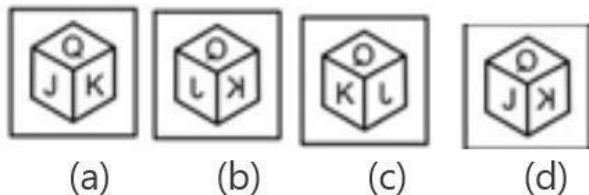
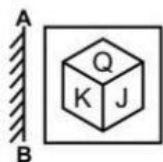
(d)

SSCCGL16AUG-S1 : 23

(122) If a mirror is placed on the line AB, then which of

the answer figures is the right image of the given figure?

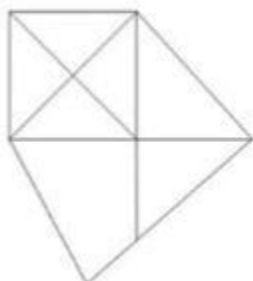
यदि एक दर्पण को AB रेखा पर रखा जाए , तो दी गई उत्तर आकृतियों में से कौन सी आकृति प्रश्न आकृति की सही प्रतिबिम्ब होगी ?



SSCCGL16AUG-S1 : 24

(123) How many quadrilaterals are there in the given figure?

दी गई आकृति में कितने चतुर्भुज हैं ?

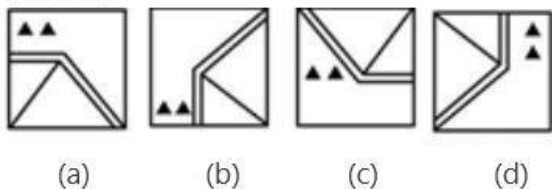


SSCCGL16AUG-S2 : 17

- (a) 3 (b) 4 (c) 7 (d) 6

(124) Which of the following figure will complete the pattern in the question figure?

निम्नलिखित में से कौन सी उत्तर आकृति प्रश्न आकृति के प्रतिरूप को पूरा करेगी ?

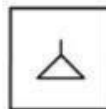


SSCCGL16AUG-S2 : 21

(125) From the given answer figure select the one

which in which the question figure is hidden / embedded.

दी गई उत्तर आकृतियों में से उस आकृति को चुनिए जिसमें प्रश्न आकृति निहित है।



- (a) (b) (c) (d)

SSCCGL16AUG-S2 : 22

(126) A piece of paper is folded and punched as shown below in the question figure. From the given answer figures, indicate how it will appear when opened?

नीचे के प्रश्न आकृतियों में दिखाए अनुसार कागज को मोड़कर उसमें छेद करने तथा खोलने के बाद वह किस उत्तर आकृति जैसा दिखाई देगा?



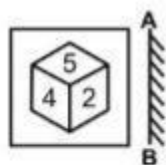
- (a) (b) (c) (d)

SSCCGL16AUG-S2 : 23

(127) If a mirror is placed on the line AB, then which of the answer figures is the right image of the given figure?

यदि एक दर्पण को AB रेखा पर रखा जाए , तो दी गई उत्तर आकृतियों में से कौन सी आकृति प्रश्न आकृति की सही

प्रतिबिम्ब होगी ?



(a)



(b)



(c)


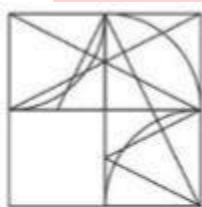


(d)

SSCCGL16AUG-S2 : 24

(128) which answer figure will complete the pattern in the question figure?

कौन सी उत्तर आकृति प्रश्न आकृति के प्रतिरूप को पूरा करेगी?



(a)



(b)



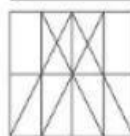
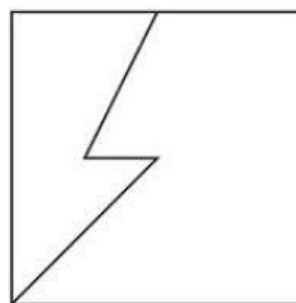
(c)



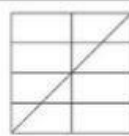
(d)

SSCCGL19AUG-S2 : 21

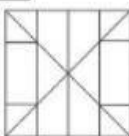
(129) From the given answer figure, select the one in which the question figure is hidden/embedded.
दी गई उत्तर आकृतियों में से उस आकृति को चुनिए जिस में प्रश्न आकृति निहित है?



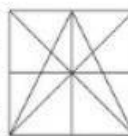
(a)



(b)



(c)

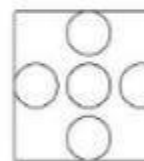
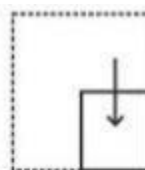
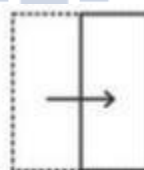


(d)


SSCCGL19AUG-S2 : 22

(130) A piece of paper is folded and punched as shown below in the question figures. From the given answer figure, indicate how it will appear when opened?


नीचे के प्रश्न आकृतियों में दिखाई अनुसार कागज को मोरकर छेद करने तथा खोलने के बाद वह किस आकृति जैसा दिखाई देगा?



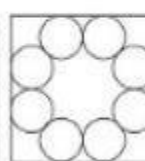
(a)



(b)



(c)



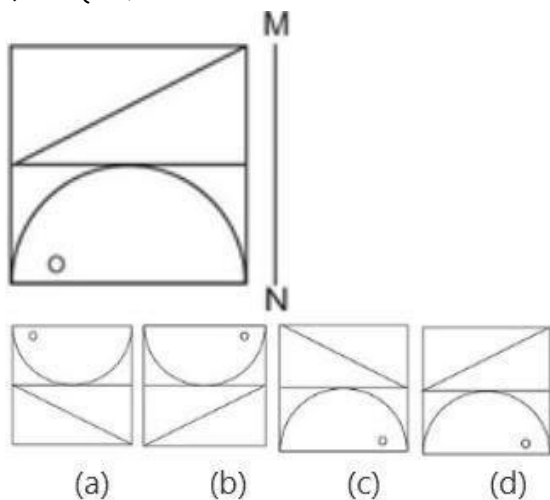
(d)

SSCCGL19AUG-S2 : 23

(131) If a mirror is placed on the line AB, then which of the answer figure is the right image of the given figure?

यदि एक दर्पण को MN रेखा पर रखा जाए, तो दी गई उत्तर आकृतियों में से कौन सी आकृति प्रश्न आकृति की सही

प्रतिबिम्ब होगी?

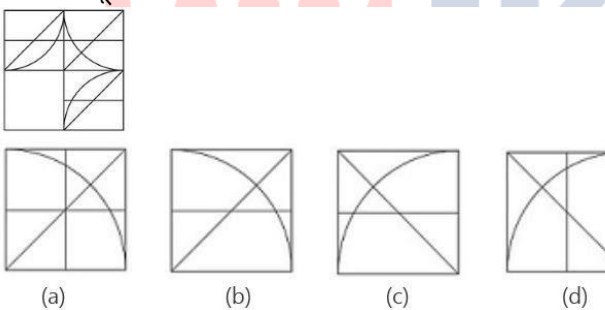


SSCCGL19AUG-S2 : 24

(a)

(132) Which of the following figure will complete the pattern in the question figure?

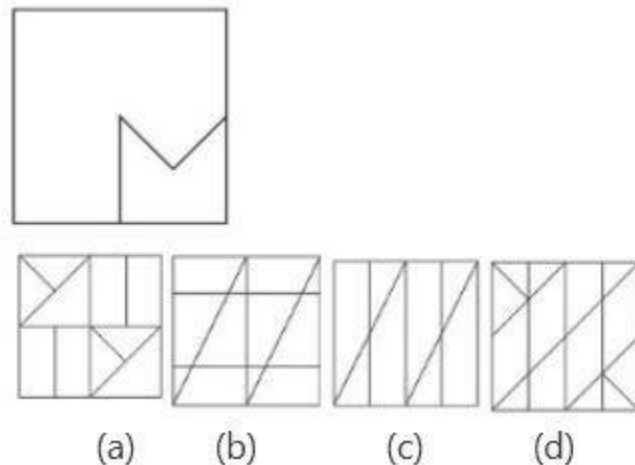
निम्नलिखित में से कौन सी उत्तर आकृति प्रश्न आकृति के प्रतिरूप को पूरा करेगी ?



SSCCGL19AUG-S3 : 21

(133) From the given answer figure select the one which in which the question figure is hidden / embedded.

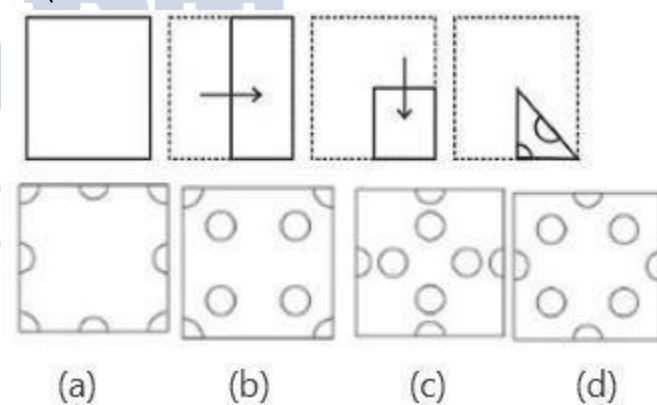
दी गई उत्तर आकृतियों में से उस आकृति को चुनिए जिसमें प्रश्न आकृति निहित है।



SSCCGL19AUG-S3 : 22

(134) A piece of paper is folded and punched as shown below in the question figure. From the given answer figures, indicate how it will appear when opened?

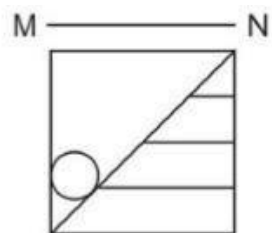
नीचे के प्रश्न आकृतियों में दिखाए अनुसार कागज को मोड़कर उसमें छेद करने तथा खोलने के बाद वह किस उत्तर आकृति जैसा दिखाई देगा?



SSCCGL19AUG-S3 : 23

(135) If a mirror is placed on the line AB, then which of the answer figure is the right image of the given figure?

यदि एक दर्पण को MN रेखा पर रखा जाए, तो दी गई उत्तर आकृतियों में से कौन सी आकृति प्रश्न आकृति की सही प्रतिबिम्ब होगी?



(a)

(b)

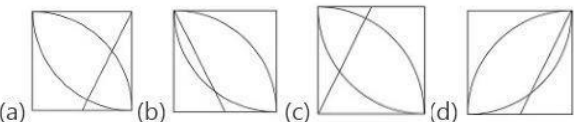
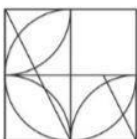
(c)

(d)

SSCCGL19AUG-S3 : 24

(136) Which of the following figure will complete the pattern in the question figure?

निम्नलिखित में से कौन सी उत्तर आकृति प्रश्न आकृति के प्रतिरूप को पूरा करेगी ?



(a)

(b)

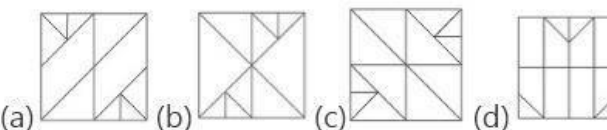
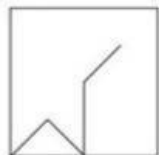
(c)

(d)

SSCCGL20AUG-S1 : 21

(137) From the given answer figure select the one which in which the question figure is hidden / embedded.

दी गई उत्तर आकृतियों में से उस आकृति को चुनिए जिसमें प्रश्न आकृति निहित है।



(a)

(b)

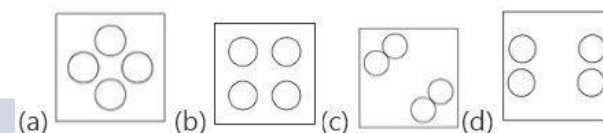
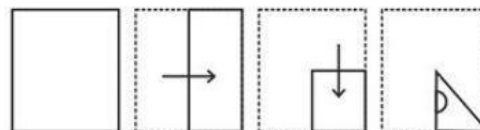
(c)

(d)

SSCCGL20AUG-S1 : 22

(138) A piece of paper is folded and punched as shown below in the question figure. From the given answer figures, indicate how it will appear when opened?

नीचे के प्रश्न आकृतियों में दिखाए अनुसार कागज को मोड़कर उसमें छेद करने तथा खोलने के बाद वह किस उत्तर आकृति जैसा दिखाई देगा?



(a)

(b)

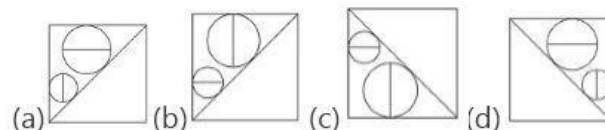
(c)

(d)

SSCCGL20AUG-S1 : 23

(139) If a mirror is placed on the line AB, then which of the answer figure is the right image of the given figure?

यदि एक दर्पण को MN रेखा पर रखा जाए, तो दी गई उत्तर आकृतियों में से कौन सी आकृति प्रश्न आकृति की सही प्रतिबिम्ब होगी?



(a)

(b)

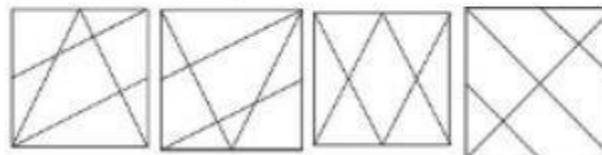
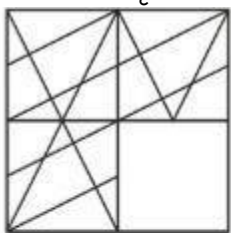
(c)

(d)

SSCCGL20AUG-S1 : 24

(140) which answer figure will complete the pattern in the question figure?


कौन सी उत्तर आकृति प्रश्न आकृति के प्रतिरूप को पूरा करेगी?



SSCGL21AUG-S1 : 21

(141) From the given answer figures, select the one in which the question figure is hidden/mbded.

दी गई उत्तर आकृतियों में से उस उत्तर आकृति को चुनिए जिसे में प्रश्न आकृति निहित है।

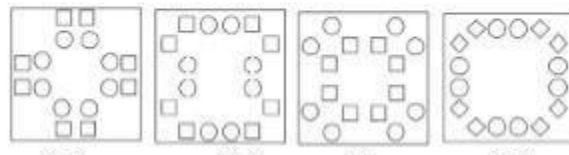
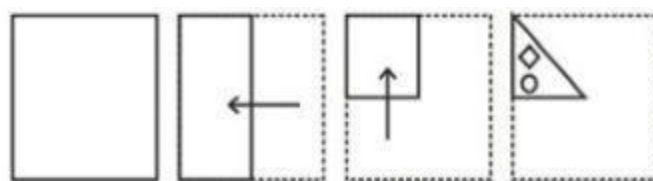


SSCGL21AUG-S1 : 22

(142) A piece of paper is folded and punched as shown below in the question figures. From the given answer figures, indicate how it will appear when opened?

नीचे के प्रश्न आकृतियों में दिखाए अनुसार कागज को मोड़कर छेदने तथा खोलने के बाद वह किस उत्तर आकृति जैसी दिखाई


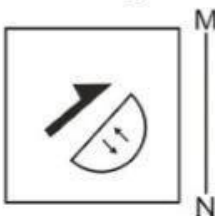
देगा?



SSCGL21AUG-S1 : 23

(143) If a mirror is placed on the line AB, then which of the answer figure is the right image of the given figure?

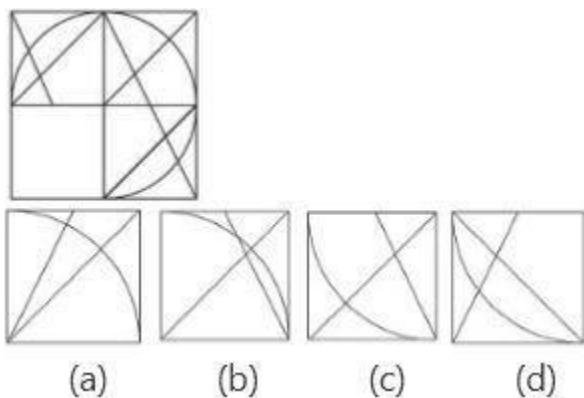
यदि एक दर्पण को MN रेखा पर रखा जाए, तो दी गई उत्तर आकृतियों में से कौन सी आकृति प्रश्न आकृति की सही प्रतिबिम्ब होगी?



SSCGL21AUG-S1 : 24

(144) Which of the following figure will complete the pattern in the question figure?

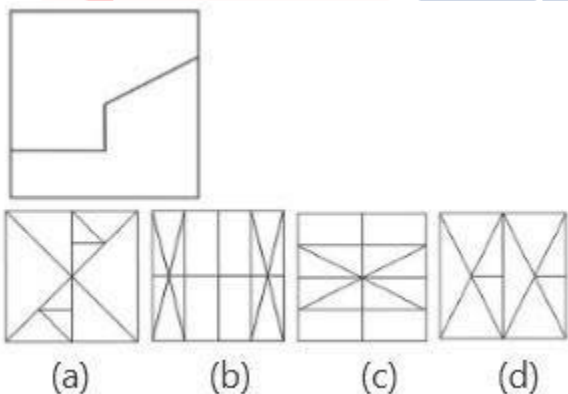
निम्नलिखित में से कौन सी उत्तर आकृति प्रश्न आकृति के प्रतिरूप को पूरा करेगी ?



SSCCGL21AUG-S2 : 21

(145) From the given answer figure select the one in which the question figure is hidden / embedded.

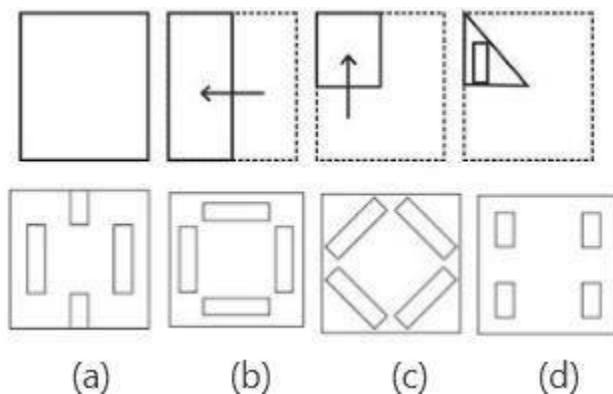
दी गई उत्तर आकृतियों में से उस आकृति को चुनिए जिसमें प्रश्न आकृति निहित है।



SSCCGL21AUG-S2 : 22

(146) A piece of paper is folded and punched as shown below in the question figure. From the given answer figures, indicate how it will appear when opened?

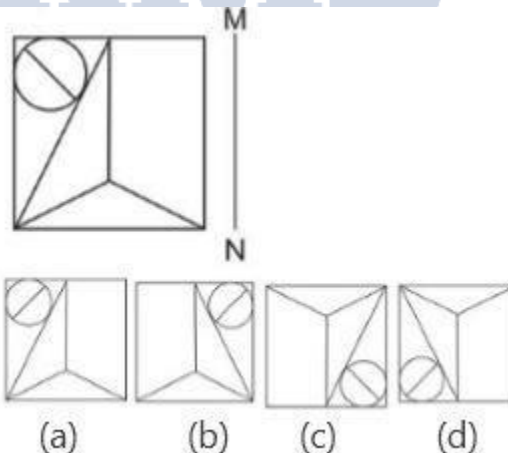
नीचे के प्रश्न आकृतियों में दिखाए अनुसार कागज को मोड़कर उसमें छेद करने तथा खोलने के बाद वह किस उत्तर आकृति जैसा दिखाई देगा?



SSCCGL21AUG-S2 : 23

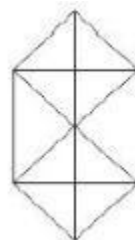
(147) If a mirror is placed on the line AB, then which of the answer figure is the right image of the given figure?

यदि एक दर्पण को MN रेखा पर रखा जाए, तो दी गई उत्तर आकृतियों में से कौन सी आकृति प्रश्न आकृति की सही प्रतिबिम्ब होगी?



SSCCGL21AUG-S2 : 24

(148) How many triangles are there in the given figure?

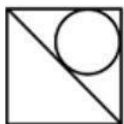
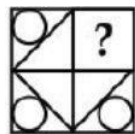


SSCCGL05AUG-S1 : 17

- (a) 20 (b) 22 (c) 28 (d) 32

(149) Which answer figure will complete the pattern in the question figure?

कौन सी उत्तर आकृति प्रश्न आकृति के प्रतिरूप को पूरा करेगी ?



(a)



(b)



(c)

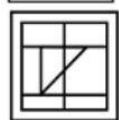
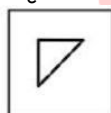


(d)

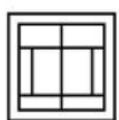
SSCCGL05AUG-S1 : 21

(150) From the given answer figure select the one in which the question figure is hidden / embedded.

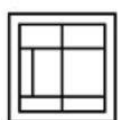
दी गई उत्तर आकृतियों में से उस आकृति को चुनिए जिसमें प्रश्न आकृति निहित है।



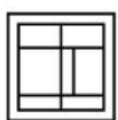
(a)



(b)



(c)

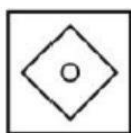


(d)

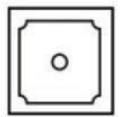
SSCCGL05AUG-S1 : 22

(151) A piece of paper is folded and punched as shown below in the question figure. From the given answer figures, indicate how it will appear when opened?

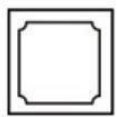
नीचे के प्रश्न आकृतियों में दिखाए अनुसार कागज को मोड़कर उसमें छेद करने तथा खोलने के बाद वह किस उत्तर आकृति जैसा दिखाई देगा?



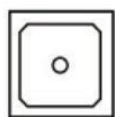
(a)



(b)



(c)



(d)

SSCCGL05AUG-S1 : 23

(152) A piece of paper is folded and punched as shown below in the question figure. From the given

answer figures, indicate how it will appear when opened?

नीचे के प्रश्न आकृतियों में दिखाए अनुसार कागज को मोड़कर उसमें छेद करने तथा खोलने के बाद वह किस उत्तर आकृति जैसा दिखाई देगा?



(a)



(b)



(c)

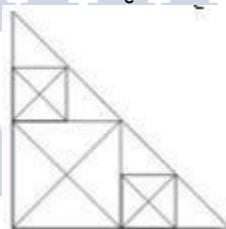


(d)

SSCCGL05AUG-S1 : 24

(153) how many triangle are there in the figure?

नीचे दी गई आकृति में कितने त्रिभुज हैं?

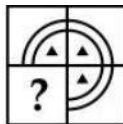


SSCCGL08AUG-S1 : 17

(a) 32 (b) 34 (c) 37 (d) 40

(154) which answer figure will complete the pattern in the question figure?

कौन सी उत्तर आकृति प्रश्न आकृति के प्रतिरूप को पूरा करेगी?



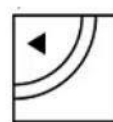
(a)



(b)



(c)

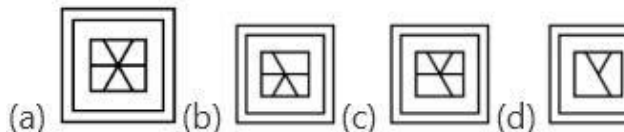
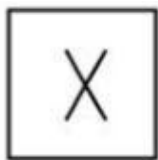


(d)

SSCCGL08AUG-S1 : 21

(155) From the given answer figure, select the one in which the question figure is hidden/embedded.

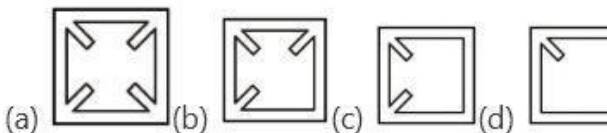
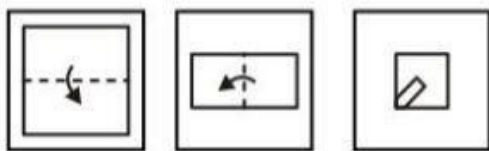
दी गई आकृतियों में से उस उत्तर आकृति को चुनिए जिस में प्रश्न आकृति निहित है।



SSCCGL08AUG-S1 : 22

(156) A piece of paper is folded and punched as shown below in the question figure. From the given answer figure, indicate how it will appear when opened.

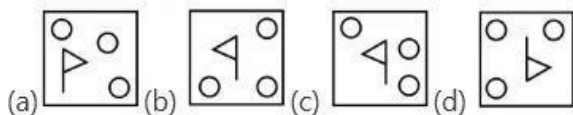
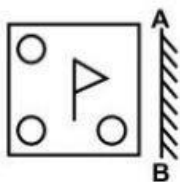
नीचे के प्रश्न आकृतियों में दिखाए अनुसार कागज को मोड़कर छेड़ने तथा खोलने के बाद वह किस उत्तर आकृति जैसा दिखाई देगा?



SSCCGL08AUG-S1 : 23

(157) If a mirror is placed on the line AB, then which of the answer figure is the right image of the given figure?

यदि एक दर्पण को AB रेखा पर रखा जाए, तो दी गई उत्तर आकृतियों में से कौन सी आकृति प्रश्न आकृति की सही प्रतिबिम्ब होगा ?

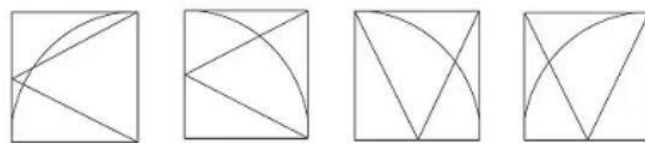
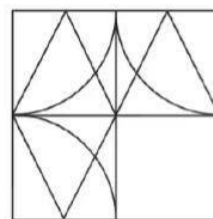


SSCCGL08AUG-S1 : 24

(158) which answer figure will complete the pattern in

the question figure?

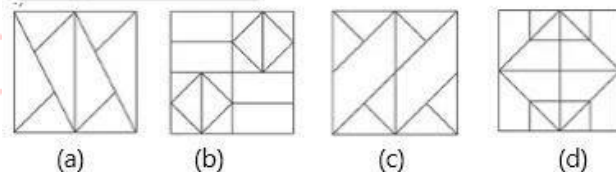
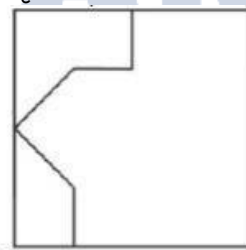
कौन सी उत्तर आकृति प्रश्न आकृति के प्रतिरूप को पूरा करेगी?



SSCCGL23AUG-S3 : 21

(159) From the given answer figure select the one in which the question figure is hidden / embedded.

दी गई उत्तर आकृतियों में से उस आकृति को चुनिए जिसमें प्रश्न आकृति निहित है।

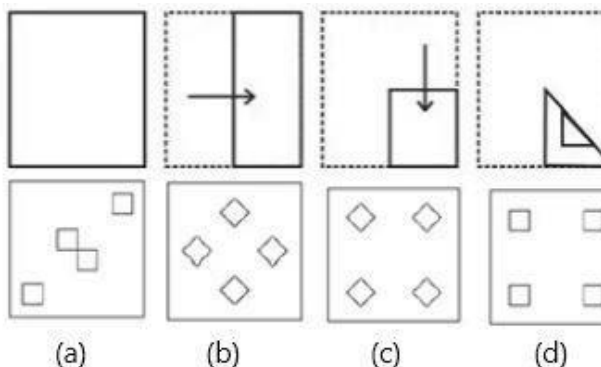


SSCCGL23AUG-S3 : 22

(160) A piece of paper is folded and punched as shown below in the question figure. From the given answer figures, indicate how it will appear when opened?

नीचे के प्रश्न आकृतियों में दिखाए अनुसार कागज को मोड़कर उसमें छेद करने तथा खोलने के बाद वह किस उत्तर आकृति जैसा

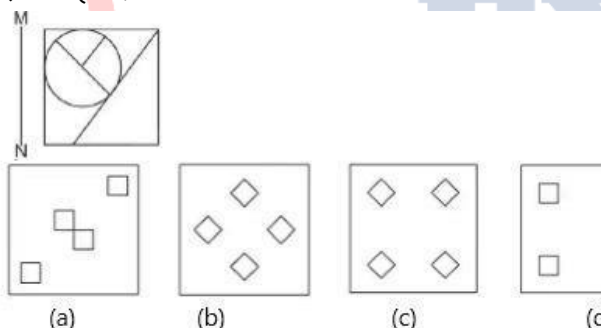
दिखाई देगा?



SSCCGL23AUG-S3 : 23

(161) If a mirror is placed on the line AB, then which of the answer figure is the right image of the given figure?

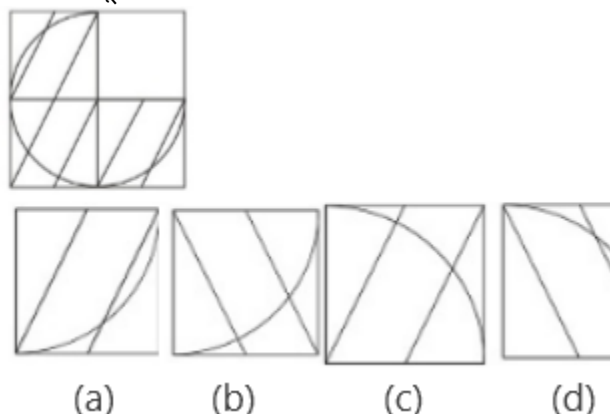
यदि एक दर्पण को MN रेखा पर रखा जाए, तो दी गई उत्तर आकृतियों में से कौन सी आकृति प्रश्न आकृति की सही प्रतिबिम्ब होगी?



SSCCGL23AUG-S3 : 24

(162) Which of the following figure will complete the pattern in the question figure?

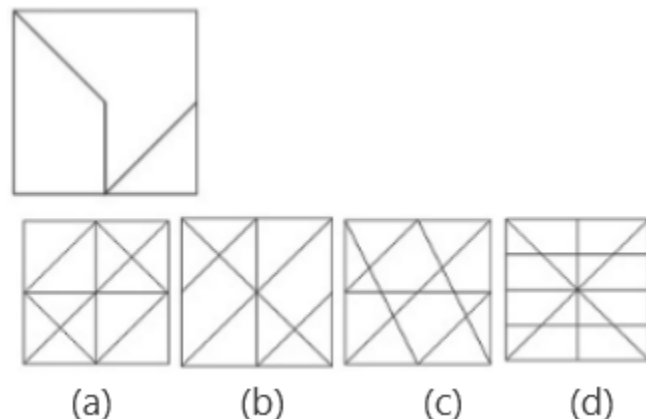
निम्नलिखित में से कौन सी उत्तर आकृति प्रश्न आकृति के प्रतिरूप को पूरा करेगी ?



SSCCGL20AUG-S2 : 21

(163) From the given answer figure select the one in which the question figure is hidden / embedded.

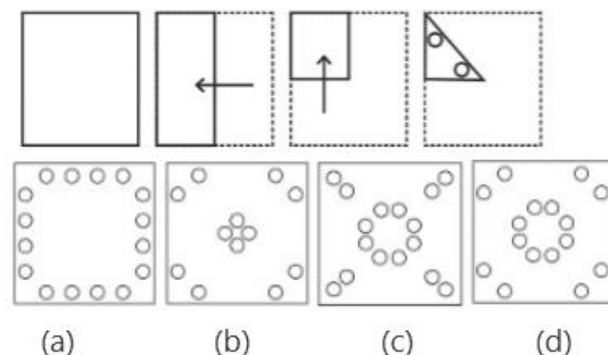
दी गई उत्तर आकृतियों में से उस आकृति को चुनिए जिसमें प्रश्न आकृति निहित है।



SSCCGL20AUG-S2 : 22

(164) A piece of paper is folded and punched as shown below in the question figure. From the given answer figures, indicate how it will appear when opened?

नीचे के प्रश्न आकृतियों में दिखाए अनुसार कागज को मोड़कर उसमें छेद करने तथा खोलने के बाद वह किस उत्तर आकृति जैसा दिखाई देगा?

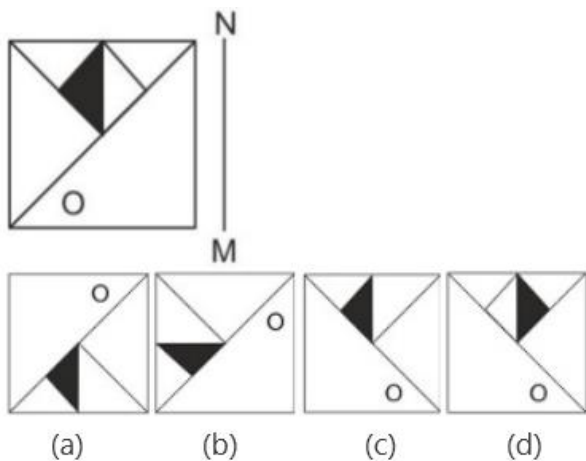


SSCCGL20AUG-S2 : 23

(165) If a mirror is placed on the line AB, then which of the answer figure is the right image of the given figure?

यदि एक दर्पण को MN रेखा पर रखा जाए, तो दी गई उत्तर आकृतियों में से कौन सी आकृति प्रश्न आकृति की सही

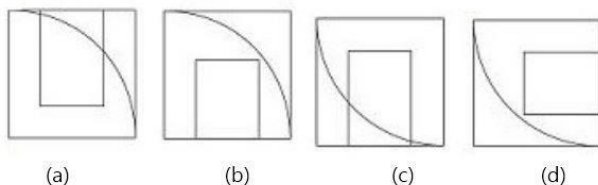
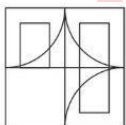
प्रतिबिम्ब होगी?



SSCGL20AUG-S2 : 24

(166) which answer figure will complete the pattern in the question figure?

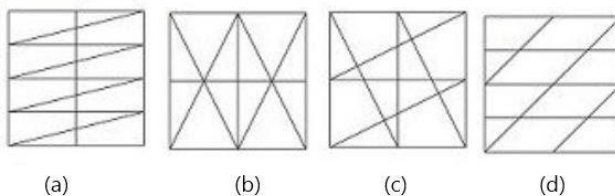
कौन सी उत्तर आकृति प्रश्न आकृति के प्रतिरूप को पूरा करेगी?



SSCGL22AUG-S3 : 21

(167) From the given answer figures, select the one in which the question figure is hidden/mbded.

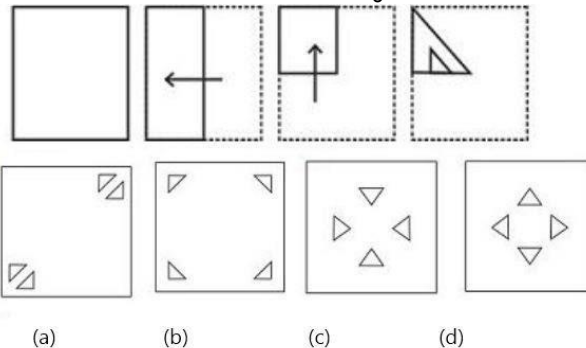
दी गई उत्तर आकृतियों में से उस उत्तर आकृति को चुनिए जिसे में प्रश्न आकृति निहित है।



SSCGL22AUG-S3 : 22

(168) A piece of paper is folded and punched as shown below in the question figure. From the given answer figures, indicate how it will appear when opened?

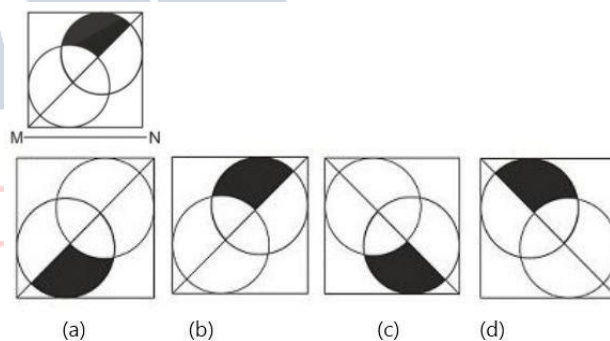
नीचे के प्रश्न आकृतियों में दिखाए अनुसार कागज को मोरकर छेदने तथा खोलने के बाद वह किस उत्तर आकृति ? दिखाई देगा?



SSCGL22AUG-S3 : 23

(169) If a mirror is placed on the line MN, then which of the answer figure is the right image of the given figure?

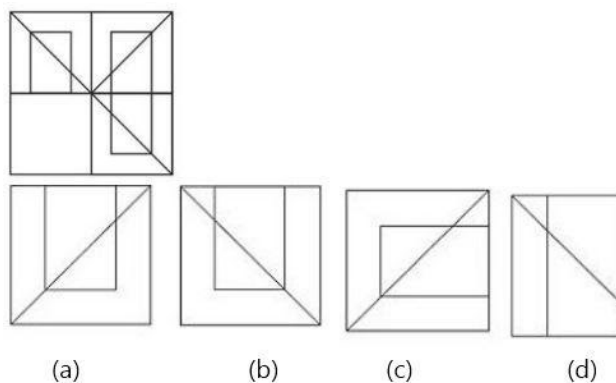
यदि एक दर्पण को MN रेखा पर रखा जाए, तो दी गई उत्तर आकृतियों में से कौन सी आकृति प्रश्न आकृति की सही प्रतिबिम्ब होगी?



SSCGL22AUG-S3 : 24

(170) Which of the following figure will complete the pattern in the question figure?

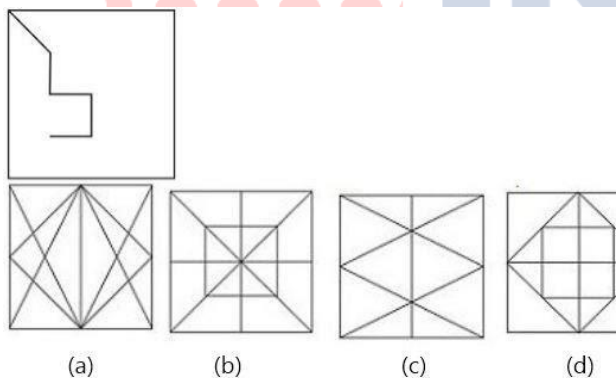
निम्नलिखित में से कौन सी उत्तर आकृति प्रश्न आकृति के प्रतिरूप को पूरा करेगी ?



SSCGL23AUG-S1 : 21

(171) From the given answer figure select the one which in which the question figure is hidden / embedded.

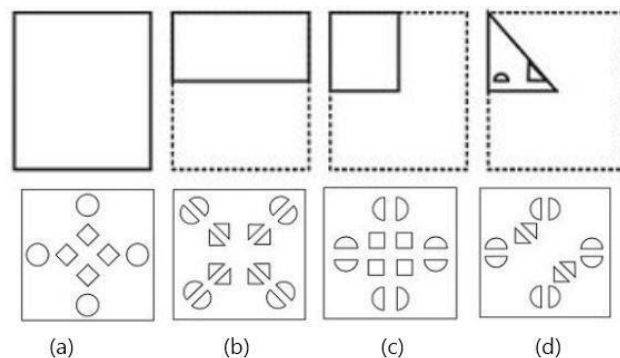
दी गई उत्तर आकृतियों में से उस आकृति को चुनिए जिसमें प्रश्न आकृति निहित है।



SSCGL23AUG-S1 : 22

(172) A piece of paper is folded and punched as shown below in the question figure. From the given answer figures, indicate how it will appear when opened?

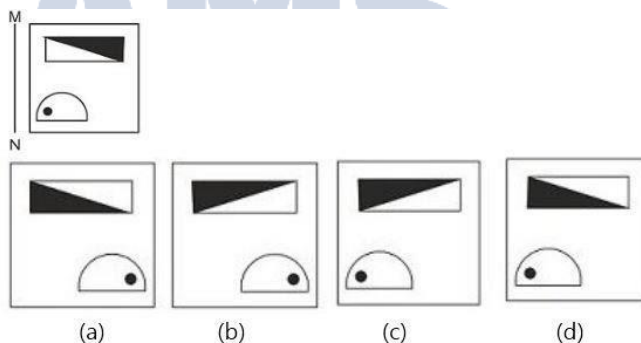
नीचे के प्रश्न आकृतियों में दिखाए अनुसार कागज को मोड़कर उसमें छेद करने तथा खोलने के बाद वह किस उत्तर आकृति जैसा दिखाई देगा?



SSCGL23AUG-S1 : 23

(173) If a mirror is placed on the line MN, then which of the answer figure is the right image of the given figure?

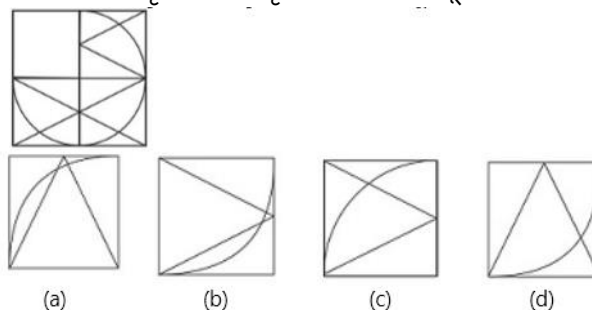
यदि एक दर्पण को MN रेखा पर रखा जाए, तो दी गई उत्तर आकृतियों में से कौन सी आकृति प्रश्न आकृति की सही प्रतिबिम्ब होगी?



SSCGL23AUG-S1 : 24

(174) which answer figure will complete the pattern in the question figure?

कौन सी उत्तर आकृति प्रश्न आकृति के प्रतिरूप को पूरा करेगी?

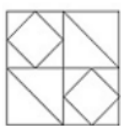


SSCGL22AUG-S1 : 21

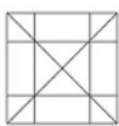
(175) From the given answer figures, select the one in which the question figure is hidden/mb edded.

दी गई उत्तर आकृतियों में से उस उत्तर आकृति को चुनिए जिसे में

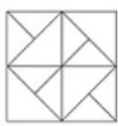
प्रश्न आकृति निहित है।



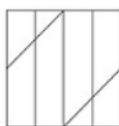
(a)



(b)



(c)

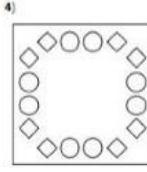
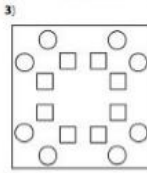
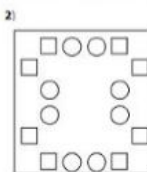
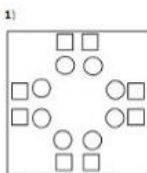
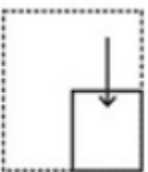
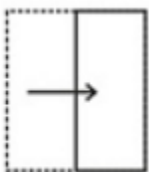


(d)

SSCCGL22AUG-S1 : 22

(176) A piece of paper is folded and punched as shown below in the question figures. From the given answer figures, indicate how it will appear when opened?

नीचे के प्रश्न आकृतियों में दिखाए अनुसार कागज को मोड़कर छेदने तथा खोलने के बाद वह किस उत्तर आकृति जैसी दिखाई देगा?

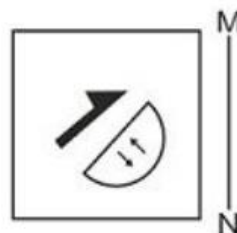


SSCCGL22AUG-S1 : 23

(177)

If a mirror is placed on the line MN, then which of the answer figures is the right image of the given figure?

यदि एक दर्पण को MN रेखा पर रखा जाए तो दी गई उत्तर आकृतियों में से कौन-सी आकृति प्रश्न आकृति का सही प्रतिबिम्ब होगी?




1)




2)



3)



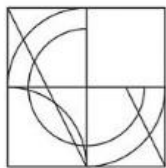
4)



SSCCGL22AUG-S1 : 24

(178) Which answer figure will complete the pattern in the question figure?

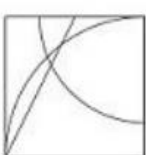
निम्नलिखित में से कौन-सी उत्तर आकृति प्रश्न आकृति के प्रतिरूप को पूरा करेगी ?



(a)



(b)



(c)

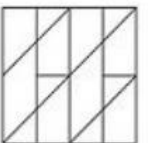
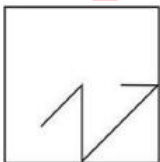


(d)

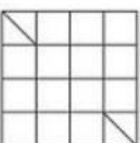
SSCCGL23AUG-S2 : 21

(179) From the given answer figures, select the one in which the question figure is hidden/embedded.

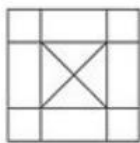
दी गई उत्तर आकृतियों में से उस आकृति को चुनिए जिसमें प्रश्न आकृति निहित है।



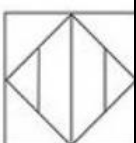
(a)



(b)



(c)

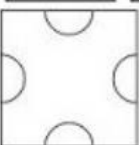
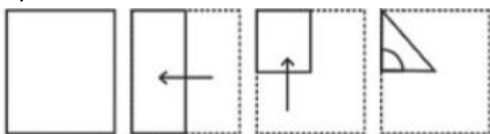


(d)

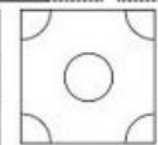
SSCCGL23AUG-S2 : 22

(180) A piece of paper is folded and punched as shown below in the question figure. From the given answer figures, indicate how it will appear when opened?

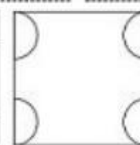
नीचे के प्रश्न आकृतियों में दिखाए अनुसार कागज को मोड़कर उसमें छेद करने तथा खोलने के बाद वह किस उत्तर आकृति जैसा दिखाई देगा?



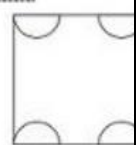
(a)



(b)



(c)

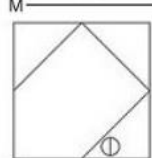
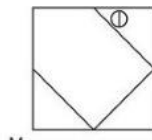


(d)

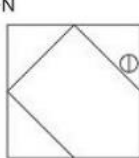
SSCCGL23AUG-S2 : 23

(181) If a mirror is placed on the line AB, then which of the answer figures is the right image of the given figure?

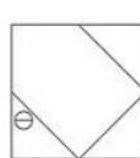
यदि एक दर्पण को AB रेखा पर रखा जाए, तो दी गई उत्तर आकृतियों में से कौन सी आकृति प्रश्न आकृति की सही प्रतिबिम्ब होगी ?



(a)



(b)



(c)

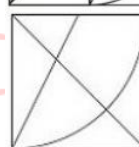
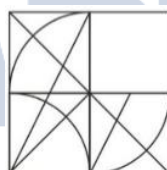


(d)

SSCCGL23AUG-S2 : 24

(182) which answer figure will complete the pattern in the question figure?

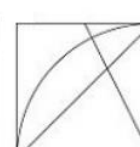
कौन सी उत्तर आकृति प्रश्न आकृति के प्रतिरूप को पूरा करेगी?



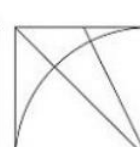
(a)



(b)



(c)

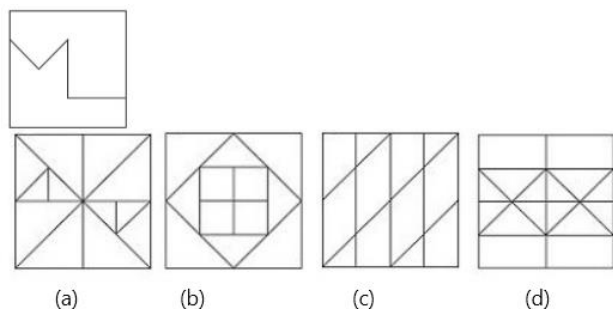


(d)

SSCCGL20AUG-S3 : 21

(183) From the given answer figures, select the one in which the question figure is hidden/mb edded.

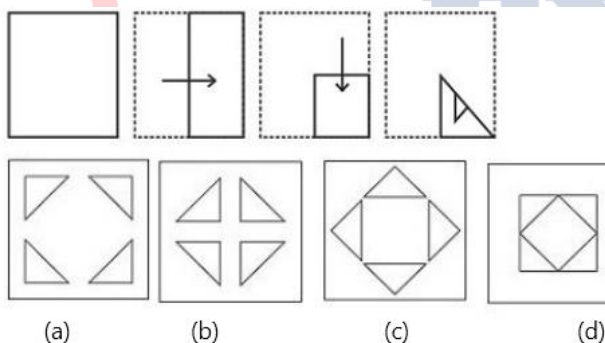
दी गई उत्तर आकृतियों में से उस उत्तर आकृति को चुनिए जिसे में प्रश्न आकृति निहित है।



SSCCGL20AUG-S3 : 22

(184) A piece of paper is folded and punched as shown below in the question figure. From the given answer figures, indicate how it will appear when opened?

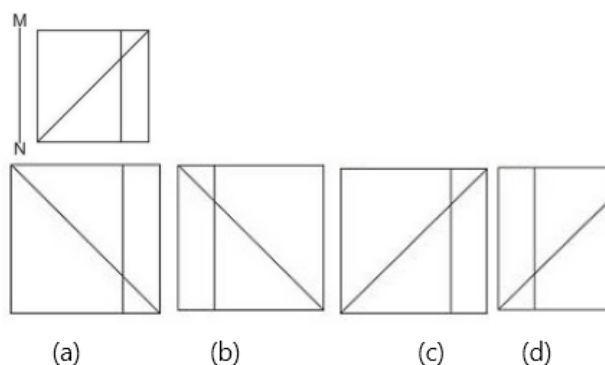
नीचे के प्रश्न आकृतियों में दिखाए अनुसार कागज को मोड़कर उसमें छेद करने तथा खोलने के बाद वह किस उत्तर आकृति जैसा दिखाई देगा?



SSCCGL20AUG-S3 : 23

(185) If a mirror is placed on the line MN, then which of the answer figure is the right image of the given figure?

यदि एक दर्पण को MN रेखा पर रखा जाए, तो दी गई उत्तर आकृतियों में से कौन सी आकृति प्रश्न आकृति की सही प्रतिबिम्ब होगी?




SSCCGL20AUG-S3 : 24

Answer Key

1	D	2	C	3	C	4	A	5	B
6	C	7	D	8	B	9	B	10	D
11	C	12	B	13	B	14	D	15	D
16	C	17	C	18	C	19	D	20	C
21	B	22	A	23	C	24	C	25	D
26	A	27	A	28	C	29	C	30	D
31	B	32	B	33	A	34	C	35	D
36	B	37	B	38	C	39	C	40	B
41	D	42	B	43	C	44	C	45	A
46	D	47	B	48	C	49	C	50	A
51	C	52	A	53	C	54	A	55	C
56	B	57	D	58	C	59	A	60	A
61	B	62	A	63	B	64	A	65	B
66	C	67	A	68	B	69	A	70	B
71	C	72	B	73	B	74	A	75	C
76	D	77	C	78	C	79	B	80	D
81	C	82	D	83	C	84	C	85	C
86	D	87	B	88	C	89	C	90	B
91	B	92	B	93	D	94	B	95	A
96	C	97	D	98	C	99	A	100	D
101	B	102	C	103	B	104	C	105	C
106	A	107	B	108	C	109	B	110	D
111	A	112	C	113	A	114	A	115	D
116	A	117	D	118	A	119	B	120	B
121	D	122	B	123	C	124	A	125	A
126	A	127	A	128	D	129	D	130	D
131	C	132	B	133	A	134	D	135	A
136	B	137	B	138	A	139	A	140	A

141	B	142	D	143	D	144	C	145	C
146	B	147	B	148	B	149	A	150	A
151	B	152	C	153	C	154	A	155	A
156	A	157	B	158	D	159	D	160	D
161	D	162	C	163	B	164	D	165	D
166	A	167	C	168	C	169	C	170	B
171	B	172	C	173	B	174	C	175	A
176	C	177	B	178	A	179	A	180	A
181	A	182	D	183	D	184	B	185	B



Govt Exams ? Crack with Us...